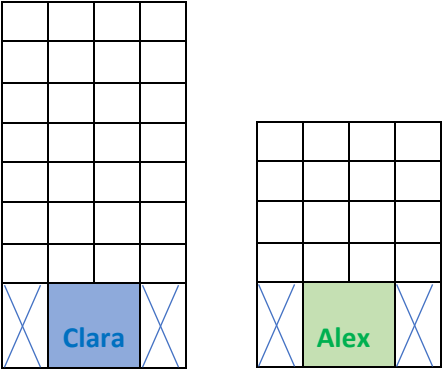
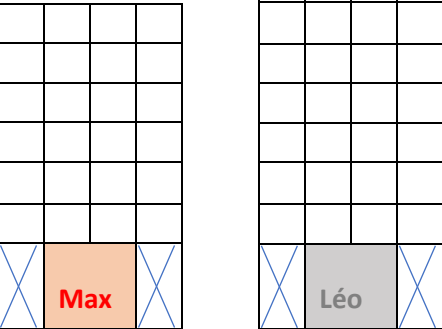
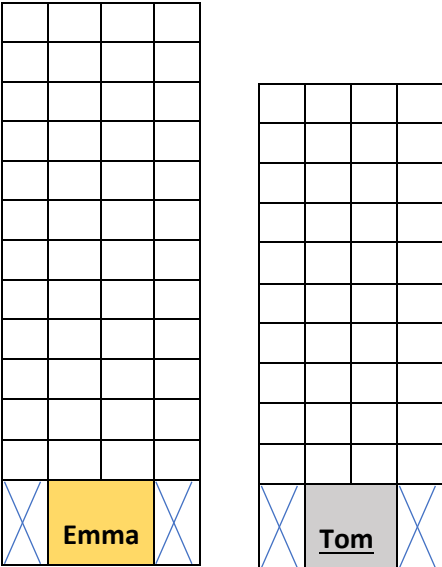


CP-ACP21-immeubles4- fiche-élèves1

<p>Dessin A</p> 	<p>Questions</p> <p>Combien d'étages a l'immeuble de Clara ?</p>	<p>Réponses</p>
	<p>Combien d'étages a l'immeuble d'Alex ?</p>	
	<p>Quel est l'immeuble le plus haut ?</p>	
	<p>De combien d'étages ?</p>	
	<p>Quel est l'écart entre les 2 immeubles ?</p>	
<p>Dessin B</p> 	<p>Combien d'étages a l'immeuble de Max ?</p>	
	<p>Combien d'étages a l'immeuble de Léo ?</p>	
	<p>Quel est l'immeuble le moins haut ?</p>	
	<p>De combien d'étages ?</p>	
	<p>Quel est l'écart entre les 2 immeubles ?</p>	
<p>Dessin C</p> 	<p>Combien d'étages a l'immeuble de Emma ?</p>	
	<p>Combien d'étages a l'immeuble de Tom ?</p>	
	<p>Quel est l'immeuble le moins haut ?</p>	
	<p>Quel est l'immeuble le plus haut ?</p>	
	<p>Quel est l'écart entre les 2 immeubles ?</p>	