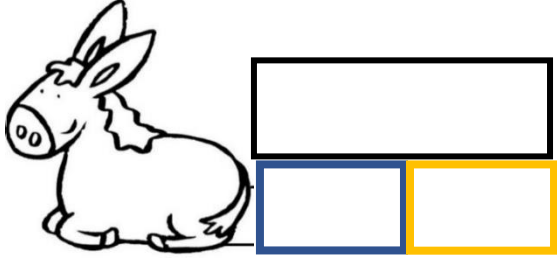
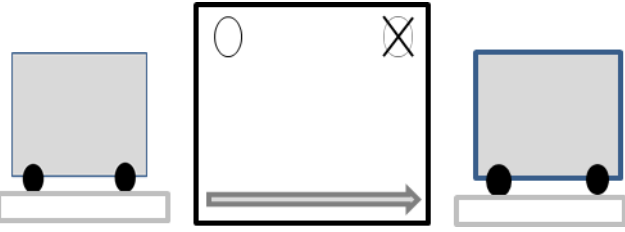
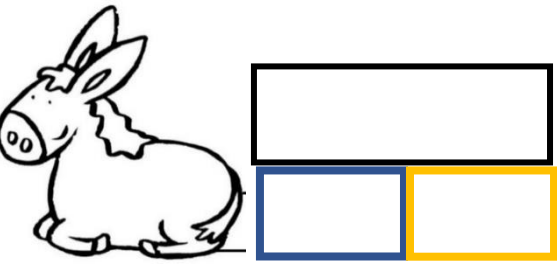
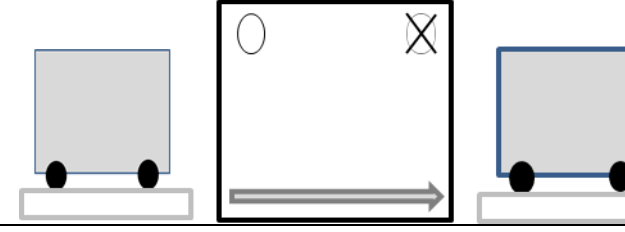

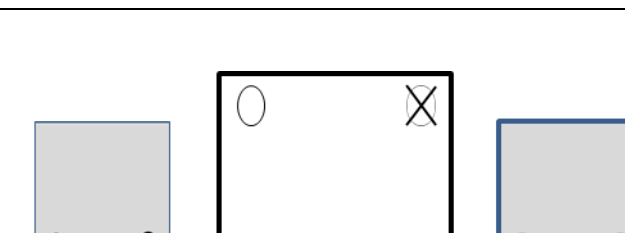
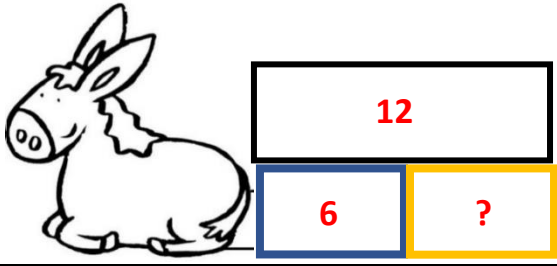
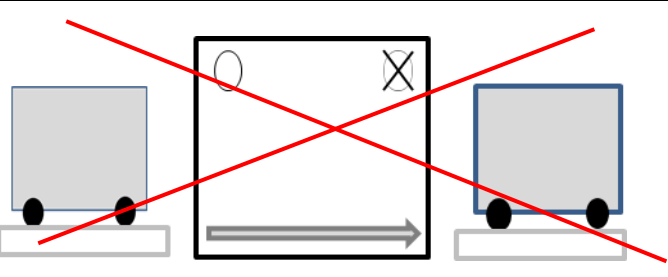
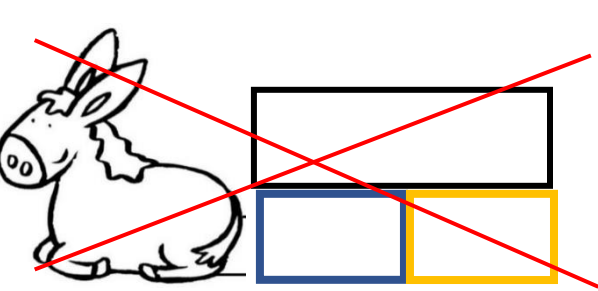
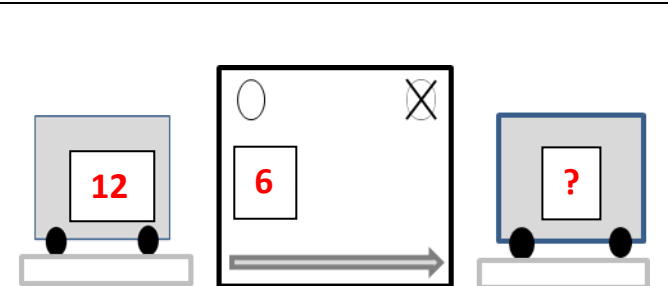


CP-ACP13-mixte1-Phase 2-fiche élèves

Pour chaque problème, choisis et complète le schéma qui convient. Barre le schéma non utilisé.

<p>Problème 5</p> <p>J'ai 12 billes en tout, des rouges et des noires. J'ai 6 billes rouges. Combien ai-je de billes noires ?</p>	 
<p>Problème 6</p> <p>Ce matin j'avais 12 billes. A midi, j'en ai gagné 6. Combien ai-je de billes cet après-midi ?</p>	 
<p>Problème 7</p> <p>Zoé a 12 billes. En allant à l'école, Lola lui donne 6 billes. Combien Zoé a-t-elle de billes maintenant ?</p>	 

Pour chaque problème, choisir le schéma qui convient et le compléter. Barrer le schéma non utilisé.

<p>Problème 5</p> <p>J'ai 12 billes en tout, des rouges et des noires. J'ai 6 billes rouges. Combien ai-je de billes noires ?</p>	 
<p>Problème 6</p> <p>Ce matin j'avais 12 billes. A midi, j'en ai gagné 6. Combien ai-je de billes cet après-midi ?</p>	 
<p>Problème 7</p> <p>Zoé a 12 billes. En allant à l'école, Lola lui donne 6 billes. Combien Zoé a-t-elle de billes maintenant ?</p>	