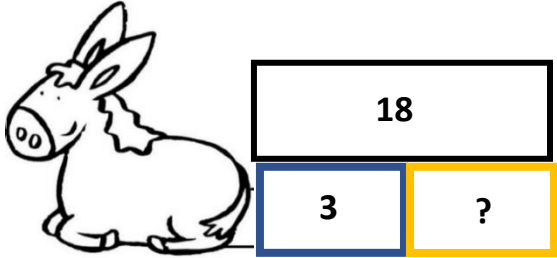
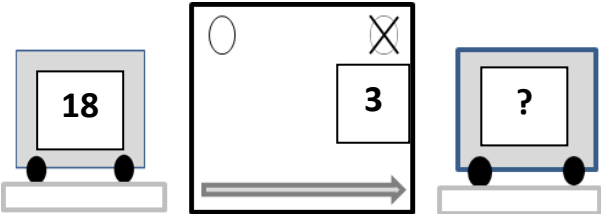
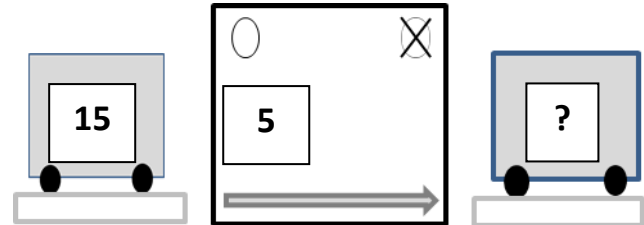


CP-ACP13 -mixte 1- phase 1- à découper ou à afficher.

<p>Problème 1</p> <p>J'ai 18 billes, des grosses et des petites. J'ai 3 grosses billes. Combien ai-je de petites billes ?</p>	<p>Problème 2</p> <p>J'avais 18 billes au début de la journée. J'en ai perdu 3. Combien ai-je de billes à la fin de la journée ?</p>
<p>Problème 3</p> <p>Max avait 15 billes au début de la partie. Il en gagne 5. Combien Max a -t-il de billes à la fin de la partie ?</p>	<p>Problème 4</p> <p>J'ai 5 grosses billes et 15 petites billes. Combien ai-je de billes en tout ?</p>

<p>Schéma A</p>	<p>Schéma B</p>
<p>Schéma C</p>	<p>Schéma D</p>

Associer chaque énoncé à un schéma.

<p>Problème 1</p> <p>J'ai 18 billes, des grosses et des petites. J'ai 3 grosses billes. Combien ai-je de petites billes ?</p>	<p>Schéma B</p> 
<p>Problème 2</p> <p>J'avais 18 billes au début de la journée. J'en ai perdu 3. Combien ai-je de billes à la fin de la journée ?</p>	<p>Schéma C</p> 
<p>Problème 3</p> <p>Max avait 15 billes au début de la partie. Il en gagne 5. Combien Max a-t-il de billes à la fin de la partie ?</p>	<p>Schéma D</p> 
<p>Problème 4</p> <p>J'ai 5 grosses billes et 15 petites billes. Combien ai-je de billes en tout ?</p>	<p>Schéma A</p> 