





CP-ACP12-fiche élèves ** : problèmes, schémas et réponses à compléter

TEXTE du problème	SCHEMA du problème	NOMBRE REPONSE au problème	JUSTIFICATION de la réponse par un calcul
		$? = \dots\dots$	<p>.....</p>
		$? = \dots\dots$	<p>.....</p>
		$? = \dots\dots$	<p>.....</p>

	 <table border="1" data-bbox="1093 156 1393 354"> <tr> <td colspan="2">15</td> </tr> <tr> <td>?</td> <td>8</td> </tr> </table>	15		?	8	? =
15							
?	8						
	 <table border="1" data-bbox="1093 472 1393 670"> <tr> <td colspan="2">8</td> </tr> <tr> <td>?</td> <td>15</td> </tr> </table>	8		?	15	? =
8							
?	15						
	 <table border="1" data-bbox="1093 831 1393 1029"> <tr> <td colspan="2">15</td> </tr> <tr> <td>3</td> <td>?</td> </tr> </table>	15		3	?	? =
15							
3	?						
	 <table border="1" data-bbox="1093 1118 1393 1316"> <tr> <td colspan="2">?</td> </tr> <tr> <td>2</td> <td>8</td> </tr> </table>	?		2	8	? =
?							
2	8						