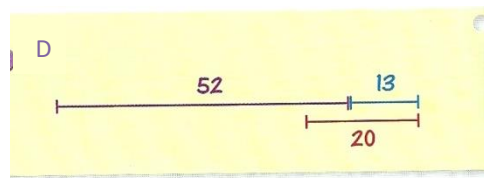
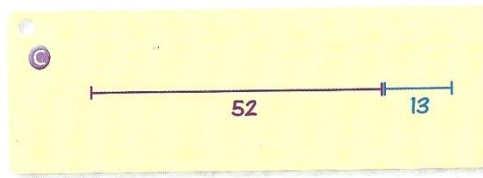

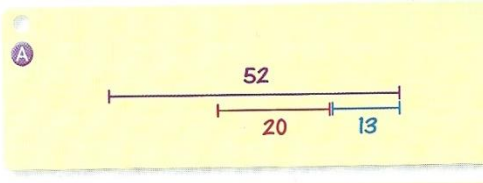


**Consigne 1 :** Pour chaque problème choisis le schéma qui convient entre A, B, C ou D. Puis résous-le en utilisant ce schéma.



- 1. Samedi matin, Laurine avait 52€ dans sa tirelire. Samedi après-midi, elle achète une bande dessinée à 13€. Combien lui reste-t-il Samedi soir ?**

*Je trouve le schéma :*

*Je résous et j'explique ma réponse :*

- 2. Théo a 52 images. Titouan a 13 images de plus que Théo. Combien Titouan a-t-il d'images ?**

*Je trouve le schéma :*

*Je résous et j'explique ma réponse :*

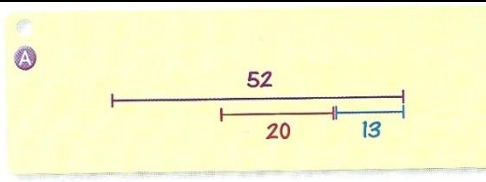
- 3. Lundi Léo avait 52 billes. Mardi il a gagné 13 billes. Mercredi il a perdu 20 billes.**

**Combien a-t-il de billes jeudi ?**

*Je trouve le schéma :*

*Je résous et j'explique ma réponse :*

**Consigne 2 :** Invente un problème qui se résout à l'aide du schéma ci-dessous



*J'écris mon énoncé de problème :*

*J'écris la question :*

*Je réponds à la question :*

*J'explique ma réponse :*