


Consigne 1 : Utilise le dessin pour trouver quels achats correspondent aux calculs

Enoncé	Calculs
<p>Le professeur M. Clot achète des livres pour sa classe.</p> 	<p>A 17 + 18</p> <p>B 41 + 9</p> <p>C 18 + 12 + 41</p> <p>D 18 + 41 + 9 + 17 + 12</p>

Calcul A : M. Clot a payé en euros $17 + 18$. Quels livres a-t-il achetés ?

.....

J'explique ma réponse :
Calcul B : M. Clot a payé en euros $41 + 9$. Quels livres a-t-il achetés ?

.....

J'explique ma réponse :
Calcul C : M. Clot a payé en euros $18 + 12 + 41$. Quels livres a-t-il achetés ?

.....

J'explique ma réponse :
Calcul D : M. Clot doit payer en euros $18 + 41 + 9 + 17 + 12$. Quels livres a-t-il achetés ?



.....

J'explique ma réponse :

Consigne 2 : Invente une histoire et une question qui correspondent au calcul suivant.

Calcul	Mon énoncé
21 + 13 + 6	<p>.....</p> <p>.....</p> <p>.....</p>

Consigne 3 : Choisis un dessin puis un calcul qui lui correspond. Invente une histoire qui va avec ce dessin et ce calcul.

Dessins de timbres	Calculs
 <p>A</p>	<div style="display: flex; justify-content: space-around; align-items: center;"> <div style="border: 1px solid black; padding: 5px; margin: 5px;">2×6</div> <div style="border: 1px solid black; padding: 5px; margin: 5px;">5×4</div> </div> <div style="display: flex; justify-content: space-around; align-items: center; margin-top: 20px;"> <div style="border: 1px solid black; padding: 5px; margin: 5px;">2×4</div> <div style="border: 1px solid black; padding: 5px; margin: 5px;">3×4</div> </div> <div style="display: flex; justify-content: space-around; align-items: center; margin-top: 20px;"> <div style="border: 1px solid black; padding: 5px; margin: 5px;">4×6</div> </div>
 <p>B</p>	
 <p>C</p>	

Entoure le dessin et le calcul qui lui correspond.

J'écris mon histoire

.....

.....

.....