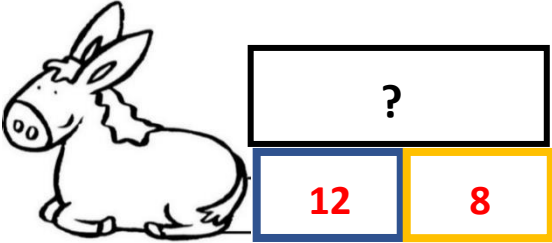
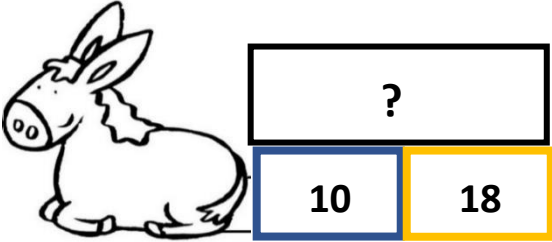
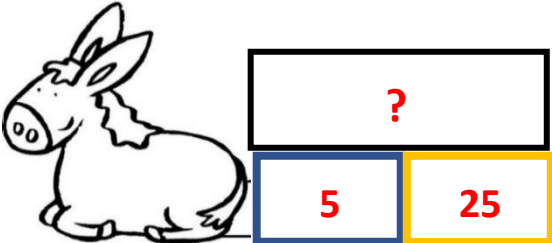
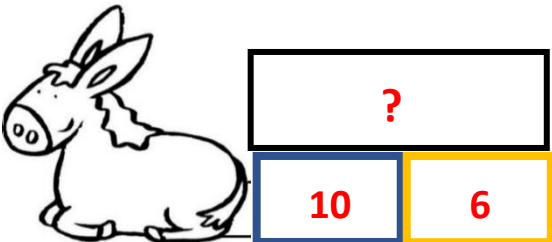


CE1-ACP8- fiche-élèves*-tableau à compléter-solutions

Texte du problème	Schéma du problème	Ecriture mathématique du problème	Nombre réponse au problème
<p>Problème D Léo a 12 pommes et 8 poires dans son caddie. Au total, combien Léo a-t-il de fruits dans son caddie ?</p>		$12 + 8 = ?$	$? = 20$ car $12 + 8 = 20$
<p>Problème A Lola a 18 billes bleues et 10 billes jaunes. Combien Lola a-t-elle de billes en tout ?</p>		$10 + 18 = ?$	$? = 28$ car $10 + 18 = 28$
<p>Problème C Dans le club de sport, il y a 5 filles et 25 garçons. Combien y a-t-il d'enfants dans tout le club de sport ?</p>		$5 + 25 = ?$	$? = 30$ car $5 + 25 = 30$
<p>Problème E Marc a 10 euros dans son porte-monnaie et 6 euros dans sa tirelire. Combien a-t-il d'euros en tout ? ou Problème B L'écureuil rassemble des fruits dans son nid pour l'hiver. Il a 6 noix et 10 noisettes. Combien l'écureuil a-t-il de fruits en tout dans son nid ?</p>		$10 + 6 = ?$	$? = 16$ car $10 + 6 = 16$