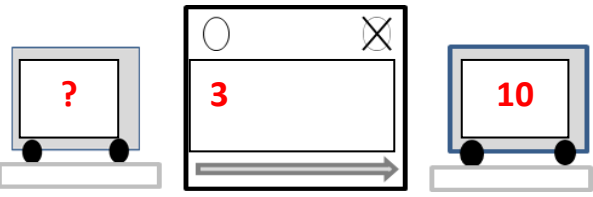
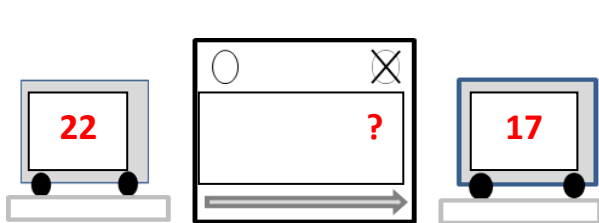
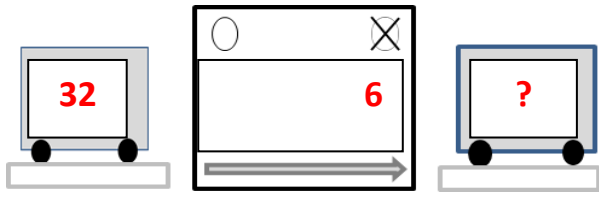
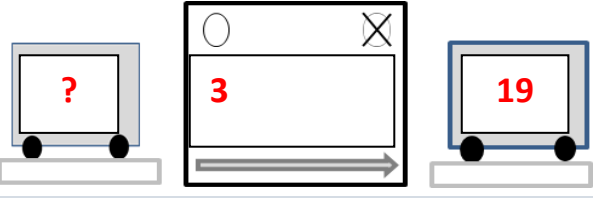
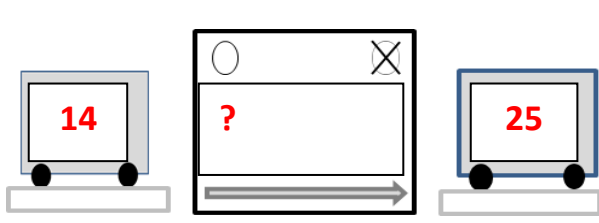
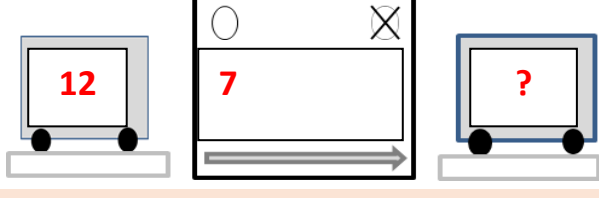


Combien au début ?	Que s'est-il passé ?	Combien à la fin ?
<p>Problème n°4* Au début, il y avait des bouchons dans le camion. Dans le garage, Lola ajoute 3 bouchons. A la fin, il y a 10 bouchons dans le camion. Combien y avait-il de bouchons au début ?</p>  <p>$? = 7$ car $7 + 3 = 10$</p>	<p>Problème n°1* Hier, Marc avait 22 billes. Aujourd'hui, il a 17 billes. A-t-il gagné ou perdu des billes ? Combien ?</p>  <p>$? = 5$ car $22 - 5 = 17$</p>	<p>Problème n°2* Louise a 32 billes. Elle joue aux billes avec Max. Max perd 6 billes. Combien Louise a-t-elle de billes maintenant ?</p>  <p>$? = 26$ car $32 - 6 = 26$</p>
<p>Problème n°5** Ce matin, Olivia avait des billes dans sa trousse. Pendant la récréation, elle gagne 3 billes. A la fin de la récréation, elle compte 19 billes dans sa trousse. Combien avait-elle de billes ce matin ?</p>  <p>$? = 16$ car $16 + 3 = 19$</p>	<p>Problème n°6** Avant de passer dans le garage, il y avait 14 bouchons dans le camion. En sortant du garage, il y a 25 bouchons dans le camion. Y a-t-il maintenant plus ou moins de bouchons dans le camion qu'avant ? Combien ?</p>  <p>$? = 11$ car $14 + 11 = 25$</p>	<p>Problème n°3* Romain joue au jeu de l'oie. Son pion est sur la case 12. Il avance son pion de 7 cases. Sur quelle case met-il son pion ?</p>  <p>$? = 19$ car $12 + 7 = 19$</p>

Combien au début ?

Que s'est-il passé ?

Combien à la fin ?

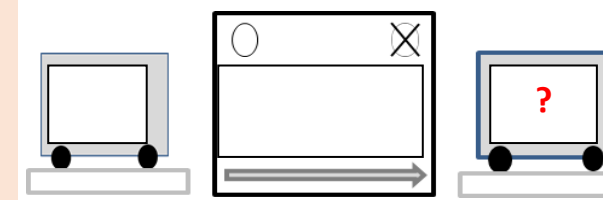
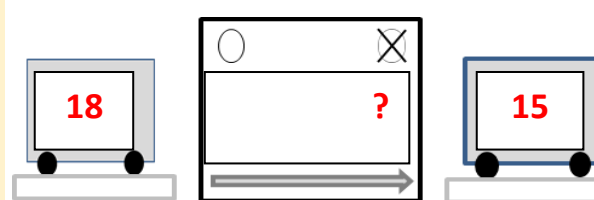
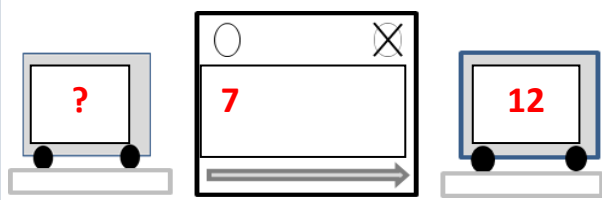
Problème n°7**

Problème n°8**

Problème n°.....

Au début il y avait des bouchons dans le camion. Dans le garage, Tom ajoute 7 bouchons. Quand le camion sort du garage, il contient 12 bouchons. Combien y avait-il de bouchons au début ?

Lili joue au jeu de l'oie. Son pion est sur la case 18. Elle tire les dés. Elle recule son pion jusqu'à la case 15. Quel nombre a-t-elle tiré avec les dés ?



? = 5 car 5 + 7 = 12

? = 3 car 18 - 3 = 15

.....