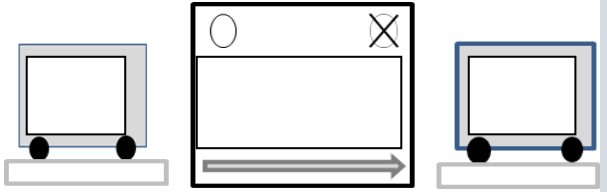
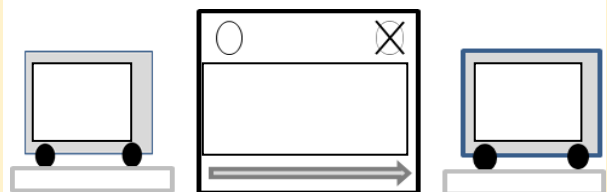
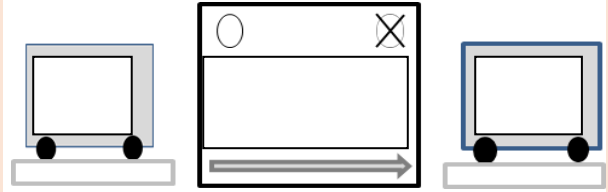
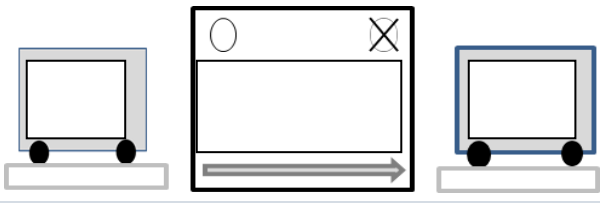
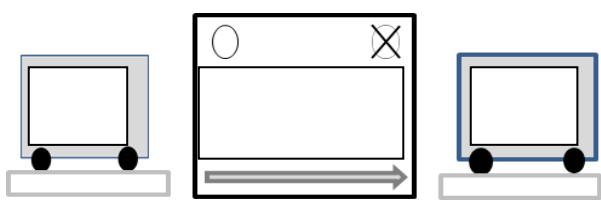
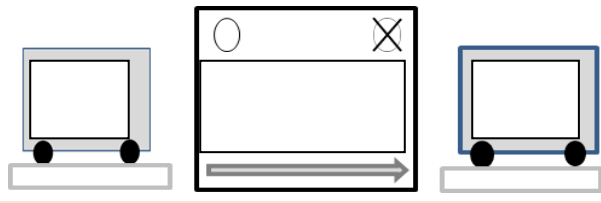


### CE1-ACP5-feuille de classement-phases 2 et 3

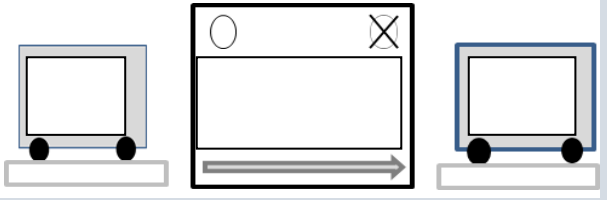
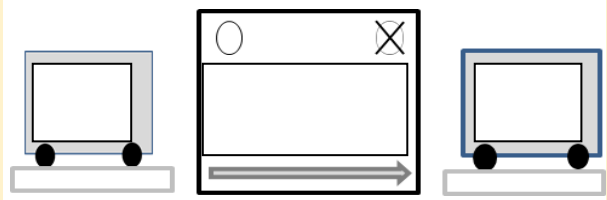
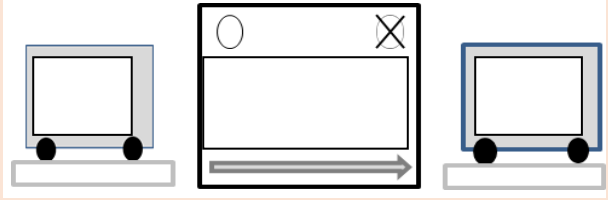
Consigne : coller les problèmes et compléter les schémas puis écrire les égalités numériques

Combien au début ?	Que s'est-il passé ?	Combien à la fin ?
<p>Problème n°.....</p>	<p>Problème n°.....</p>	<p>Problème n°.....</p>
 <p>.....</p>	 <p>.....</p>	 <p>.....</p>

CE1-ACP5-feuille de classement - suite

Combien au début ?	Que s'est-il passé ?	Combien à la fin ?
<p>Problème n°.....</p>	<p>Problème n°.....</p>	<p>Problème n°.....</p>
 <p>.....</p>	 <p>.....</p>	 <p>.....</p>

CE1-ACP5-feuille de classement - suite

Combien au début ?	Que s'est-il passé ?	Combien à la fin ?
<p>Problème n°.....</p>	<p>Problème n°.....</p>	<p>Problème n°.....</p>
 <p>.....</p>	 <p>.....</p>	 <p>.....</p>