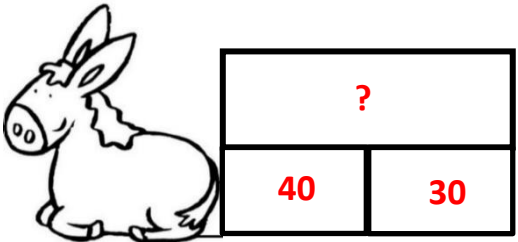
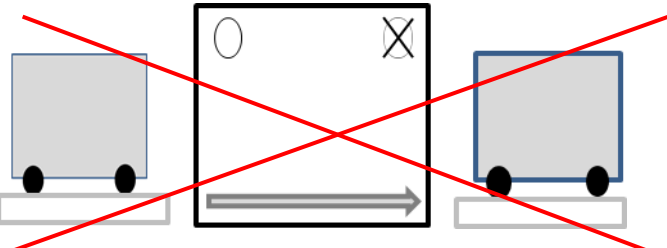
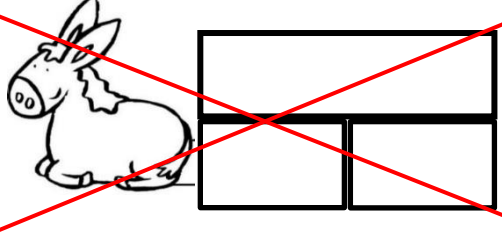
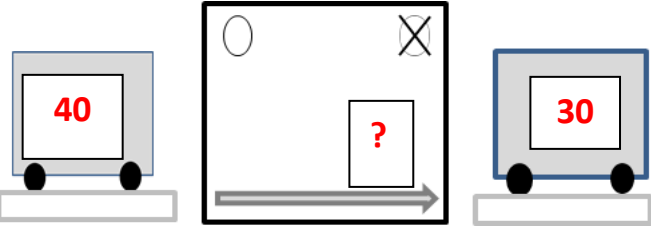


Pour chaque problème, choisir le schéma qui convient et le compléter. Barrer le schéma non utilisé.

<p><b>Problème 6</b></p> <p>Un boulanger a fabriqué 40 tartes aux fraises et 30 tartes aux pommes.  <b>Combien de tartes a-t-il fabriquées ?</b></p>	 
<p><b>Problème 7</b></p> <p>Zoé avait 40 cartes. Elle en a donné à Leila. Maintenant, Zoé a 30 cartes.  <b>Combien de cartes Zoé a-t-elle données à Leila ?</b></p>	 
<p><b>Problème 8</b></p> <p>Dans une école, il y a 81 élèves.          32 sont des garçons.  <b>Combien y a-t-il de filles ?</b></p>	