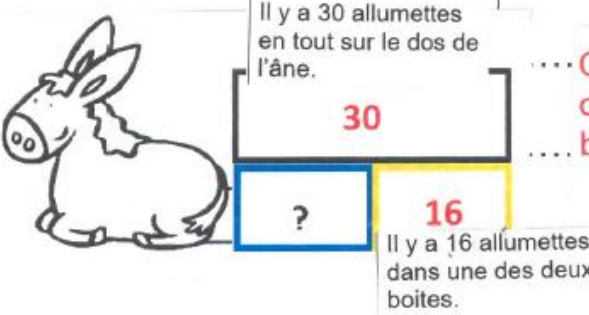
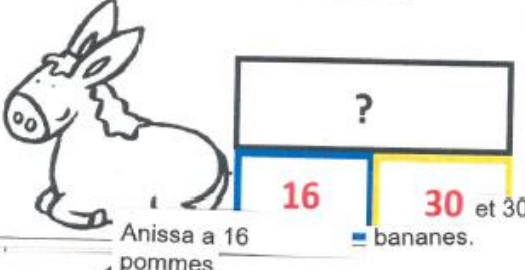
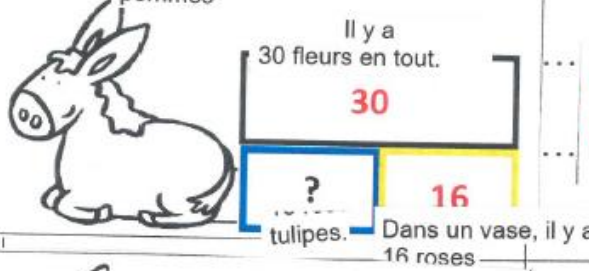
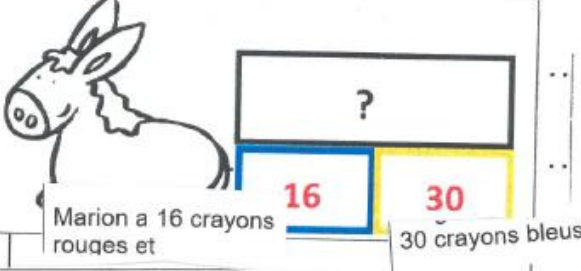
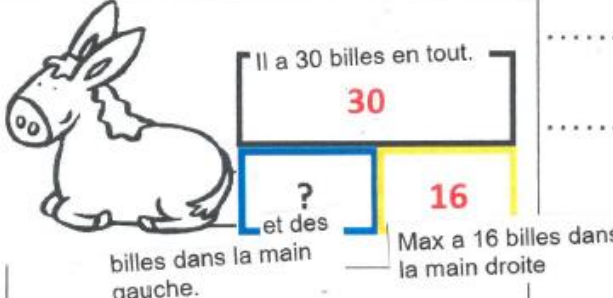


## CE1-ACP11-ANNEXE

**Document d'une classe pour découper les problèmes et trouver plus facilement la question.**

Textes des problèmes	Schémas	Questions
<p><b>Enoncé 1</b></p> <p>Il y a 30 allumettes en tout sur le dos de l'âne. Il y a 16 allumettes dans une des deux boîtes.</p>		<p>..... Combien y a-t-il d'allumettes dans l'autre boîte ?</p>
<p><b>Enoncé 2</b></p> <p>Anissa a 16 pommes et 30 bananes.</p>		<p>..... Combien Anissa a-t-elle de fruits ?</p>
<p><b>Enoncé 3</b></p> <p>Dans un vase, il y a 16 roses et des tulipes. Il y a 30 fleurs en tout.</p>		<p>..... Combien y a-t-il de tulipes dans le vase ?</p>
<p><b>Enoncé 4</b></p> <p>Marion a 16 crayons rouges et 30 crayons bleus.</p>		<p>..... Combien Marion a-t-elle de crayons en tout ?</p>
<p><b>Enoncé 5</b></p> <p>Max a 16 billes dans la main droite et des billes dans la main gauche. Il a 30 billes en tout.</p>		<p>..... Combien Max a-t-il de billes dans la main gauche ?</p>