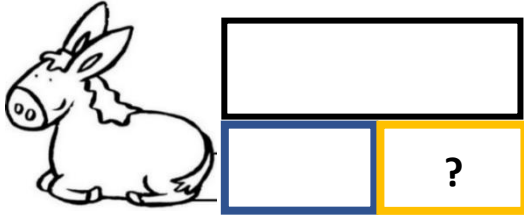
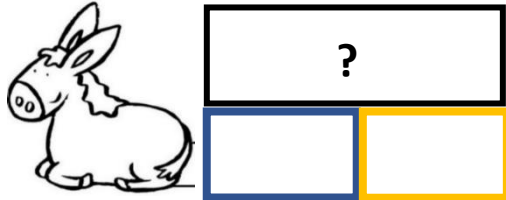

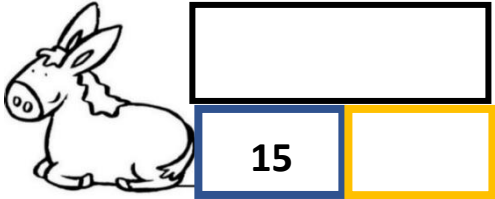


CE1-ACP10-ânes4-fiche-élèves\*-tableau à compléter

Texte du problème	Schéma du problème	Écriture mathématique du problème	Nombre réponse au problème
<p><b>Problème A</b> Il y a 25 allumettes dans la boîte bleue. Il y a 30 allumettes en tout. <b>Combien y a-t-il d'allumettes dans la boîte jaune ?</b></p>		$25 + ? = 30$	<p>? = ... car .....</p>
<p><b>Problème B</b> Il y a 15 allumettes dans la boîte bleue. Il y a 20 allumettes dans la boîte jaune. <b>Combien y a-t-il d'allumettes en tout ?</b></p>		<p>.....</p>	<p>? = 35 car <math>15 + 20 = \boxed{35}</math></p>
<p><b>Problème C</b> Il y a 10 allumettes dans la boîte jaune. Il y a 40 allumettes en tout. <b>Combien y a-t-il d'allumettes dans la boîte bleue ?</b></p>		$10 + ? = 40$	<p>? = ... car .....</p>
<p><b>Problème D</b> <i>Compléter la question</i> Il y a 15 allumettes dans la boîte bleue En tout il y a 25 allumettes. <b>Combien y a-t-il d'allumettes.....</b> .....</p>		<p>.....</p>	<p>? = ... car .....</p>