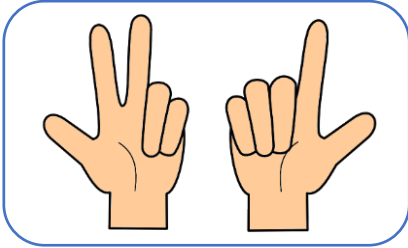



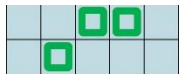



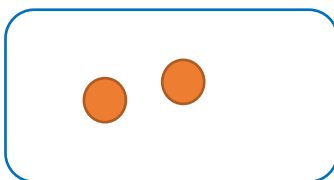




Evaluation NC1 : connaître les nombres jusqu'à 5

Page 1 : évaluation corrigée pour l'enseignant (la réponse juste est indiquée en rouge)

Page 2 : évaluation pour les élèves

Consigne : entoure la réponse qui convient	Réponses
<p>Question 1</p> <p>Combien en tout ?</p> 	<p>A ► 2</p> <p>B ► 3</p> <p>C ► 5</p> <p>D ► Je ne sais pas</p>
<p>Question 2</p> 	<p>A ► 3</p> <p>B ► 4</p> <p>C ► 5</p> <p>D ► Je ne sais pas</p>
<p>Question 3</p> <p>Entoure là où il y a le plus d'anneaux .</p> 	<p>A ► </p> <p>B ► </p> <p>C ► </p> <p>D ► Je ne sais pas</p>
<p>Question 4</p> <p>Combien manque-t-il de  pour faire 5 ?</p> 	<p>A ► 5</p> <p>B ► 4</p> <p>C ► 3</p> <p>D ► Je ne sais pas</p>

Évaluation NC1

Question 1 : A ► 0 ; B ► 0 ; C ► 1 ; D ► 0

Question 3 : A ► 0 ; B ► 1 ; C ► 0 ; D ► 0

Question 2 : A ► 0 ; B ► 1 ; C ► 0 ; D ► 0

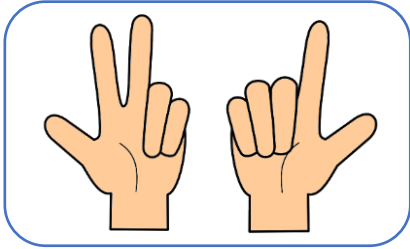




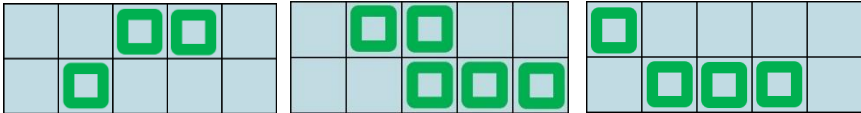





Question 4 : A ► 0 ; B ► 0 ; C ► 1 ; D ► 0



Evaluation NC1 : connaître les nombres jusqu'à 5

PRENOM : _____

Consigne : pour chaque question entoure la réponse qui convient.

Questions	Réponses
<p>Question 1</p> <p>Combien en tout ?</p> 	<p>A ► 2</p> <p>B ► 3</p> <p>C ► 5</p> <p>D ► Je ne sais pas</p>
<p>Question 2</p>   	<p>A ► 3</p> <p>B ► 4</p> <p>C ► 5</p> <p>D ► Je ne sais pas</p>
<p>Question 3</p> <p>Entoure là où il y a le plus d'anneaux .</p> 	<p>A ► </p> <p>B ► </p> <p>C ► </p> <p>D ► Je ne sais pas</p>
<p>Question 4</p> <p>Combien manque-t-il de  pour faire 5 ?</p> 	<p>A ► 5</p> <p>B ► 4</p> <p>C ► 3</p> <p>D ► Je ne sais pas</p>