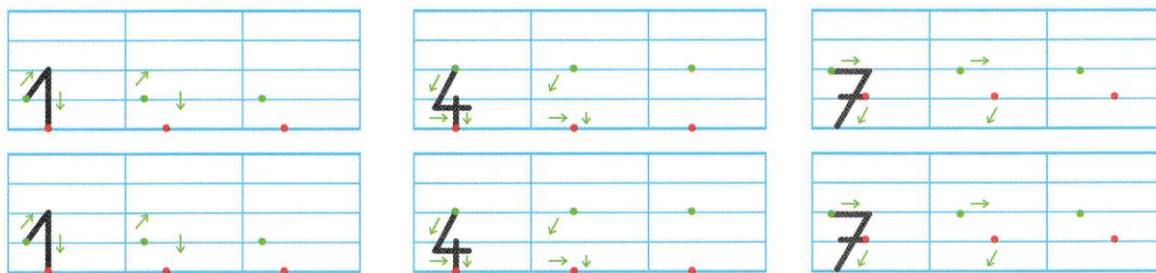



CP-NC3 : connaître les nombres jusqu'à 7**Activités ** fiche pour les élèves**

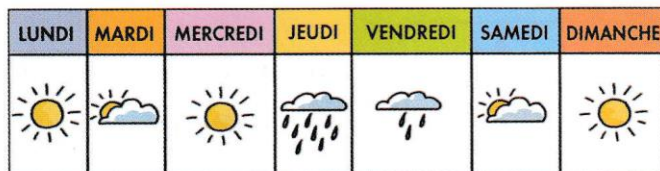
Prénom _____

Écriture**6. Devinette : A quel nombre te font penser ces 4 dessins ?**

Les ... notes de la gamme



Blanche-Neige et les ... nains



Les ... jours de la semaine

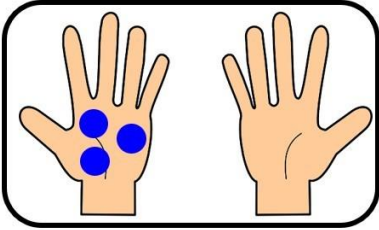
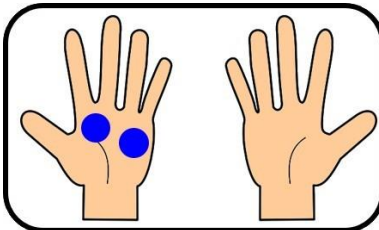
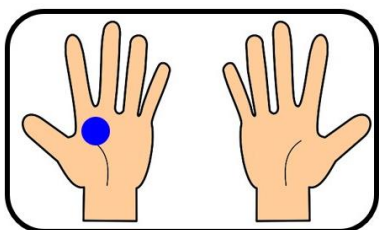
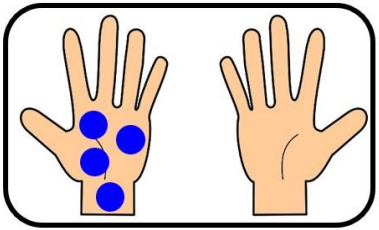
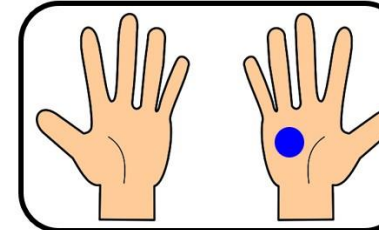
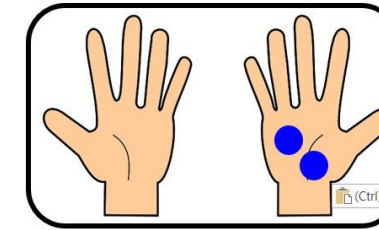


Les ... couleurs de l'arc en ciel

7. Complète et barre l'intrus







...
...

8. **Dessine** des jetons rouges ● dans l'autre main pour avoir 7 jetons en tout et **complète**.




7		
		
3 et ...	2 et ...	1 et ...
		
4 et et 1	... et 2

9. **Compare**.











- a) **Complète** et fais une croix X sous le dessin où il y a **le plus de fraises**.

b) **Complète** et fais un rond ○ sous le dessin où il y a **le moins de bananes**.


 <div data-bbox="288 660 414 734" style="border: 1px solid black; width: 80px; height: 33px; margin: 10px auto;"></div>	 <div data-bbox="641 660 766 734" style="border: 1px solid black; width: 80px; height: 33px; margin: 10px auto;"></div>	 <div data-bbox="1101 660 1227 734" style="border: 1px solid black; width: 80px; height: 33px; margin: 10px auto;"></div>

10. **Relie** les cartes 2 à 2 pour faire 7.

 <div data-bbox="347 1288 363 1310" style="text-align: center;">•</div>	 <div data-bbox="523 1288 539 1310" style="text-align: center;">•</div>	 <div data-bbox="722 1288 738 1310" style="text-align: center;">•</div>	 <div data-bbox="933 1288 949 1310" style="text-align: center;">•</div>	 <div data-bbox="1153 1288 1169 1310" style="text-align: center;">•</div>
<div data-bbox="347 1462 363 1485" style="text-align: center;">•</div> 	<div data-bbox="534 1462 550 1485" style="text-align: center;">•</div> 	<div data-bbox="726 1462 742 1485" style="text-align: center;">•</div> 	<div data-bbox="938 1462 954 1485" style="text-align: center;">•</div> 	<div data-bbox="1165 1462 1181 1485" style="text-align: center;">•</div> 

CP-NC3 : connaître les nombres jusqu'à 7**Activités ** correction pour l'enseignant**

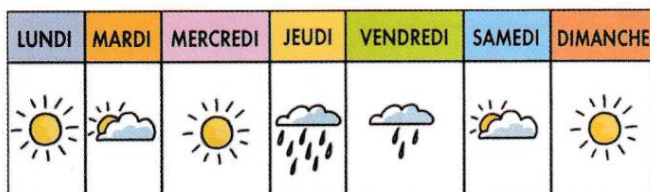
6. **Devinette** : A quel nombre te font penser ces 4 dessins? **Réponse : Le nombre 7**



Les **7** notes de la gamme



Blanche-Neige et les **7** nains

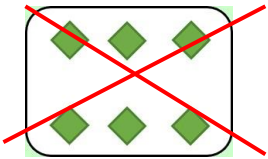







Les **7** jours de la semaine

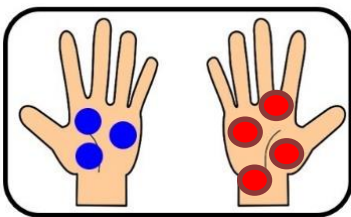
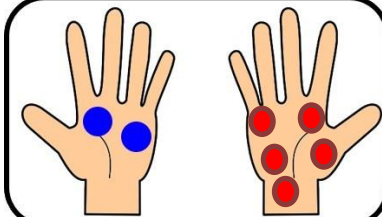
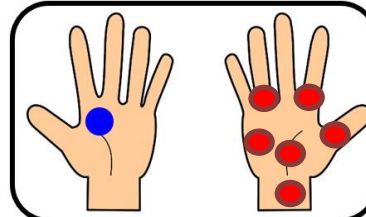
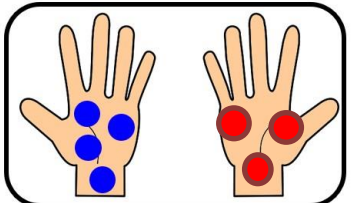
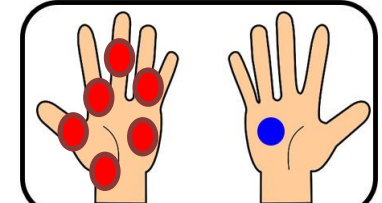
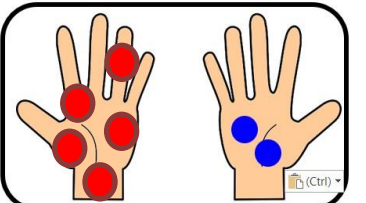


Les **7** couleurs de l'arc en ciel
(rouge, orange, jaune, vert, bleu, indigo et violet)

7. **Complète et barre l'intrus**




		
6	7	7
		
7	7	7

8. Dessine des jetons rouges ● dans l'autre main pour avoir 7 jetons en tout et **complète**.




7		
		
3 et 4	2 et 5	1 et 6
		
4 et 3	6 et 1	5 et 2

9. Compare.

a) Complète et fais une croix **X** sous le dessin où il y a **le plus de fraises**.

		
6	7	5
	X	

b) Complète et fais un rond ○ sous le dessin où il y a **le moins de bananes**.

		
6	5	7
	○	

10. Relie les cartes 2 à 2 pour faire 7.

