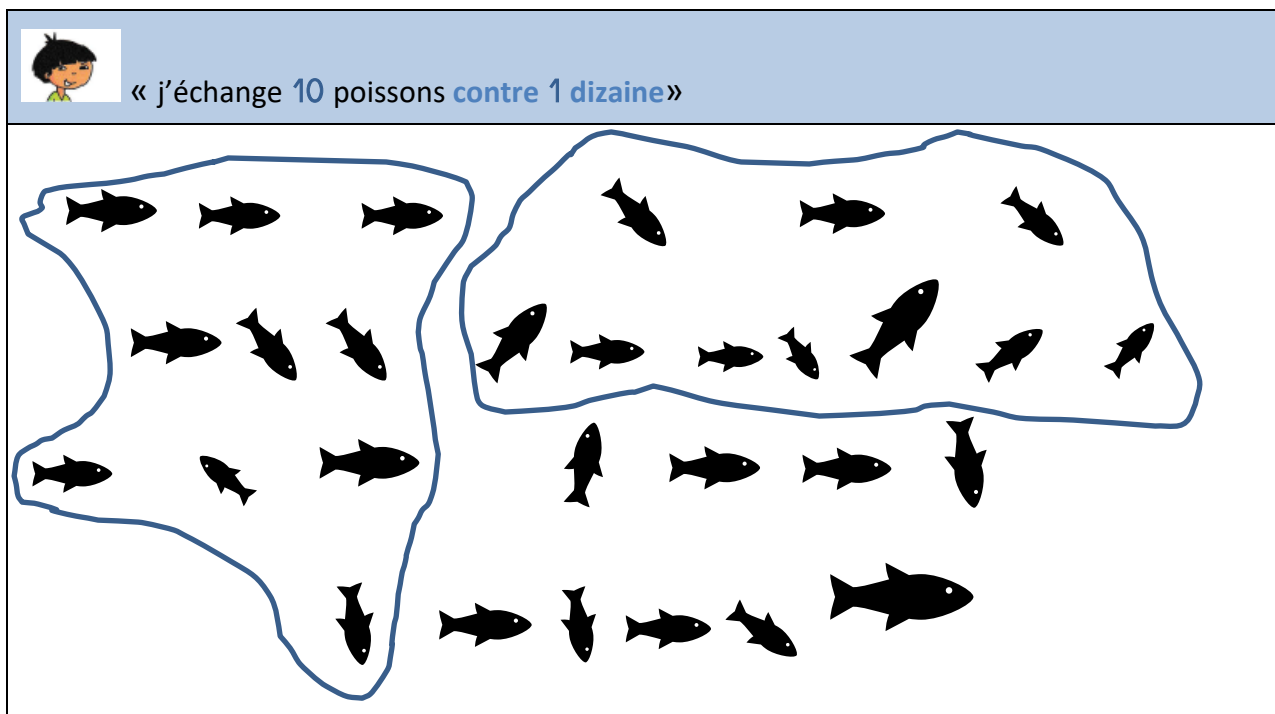


CP-NC19 : échanger 10 contre 1 jusqu'à 60

Activités * fiche pour les élèves

Prénom _____

1. Léo a **compté** ses poissons dans son aquarium en les groupant par 10.

- a) Combien Léo a-t-il de poissons dans son aquarium ? ... dizaines et ... unités.
 b) Il y a ... poissons dans l'aquarium de Léo.




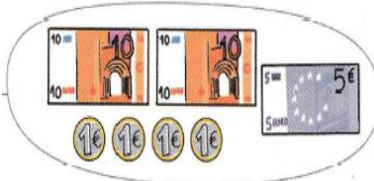





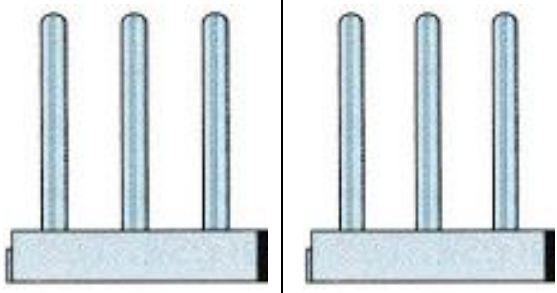
2. Max offre 1 poisson à Léo. Léo l'ajoute dans son aquarium.

a) Colorie autant d'anneaux que de poissons dans l'aquarium de Léo.	b) échange 10 contre 1 et dessine ce que tu obtiens.

- a) Combien y a-t-il maintenant de poissons dans l'aquarium de Léo ?
 ... dizaines et ... unités.
 b) Maintenant, il y a ... poissons dans l'aquarium de Léo.

3. **Problème** : As-tu assez d'argent pour payer avec 30 € ?

a) **Utilise** l'abaque pour écrire le prix des jouets et **complète** le tableau.

	1 ^{er} achat	2 ^{ème} achat	Total des achats					
Achats								
Prix	Prix du 1 ^{er} achat	Prix du 2 ^{ème} achat	Prix total					
avec la monnaie								
écrit sur l'abaque		1  anneau en plus 	<div>Échange 10 contre 1</div> 					
écrit avec les bandes	<table border="1"><tr><td>...</td><td>...</td></tr></table>		<table border="1"><tr><td>...</td><td>...</td></tr></table>	
...	...							
...	...							

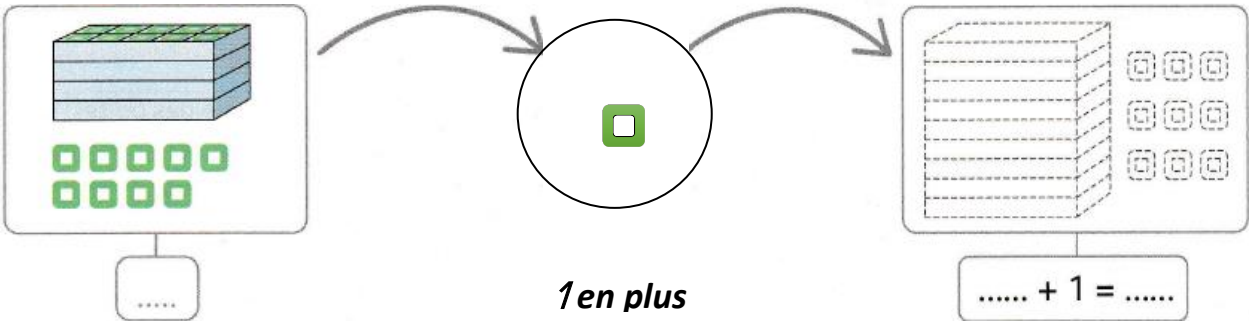
b) **As-tu** assez d'argent ? OUI NON

Barre la réponse fausse.

Prénom _____

4. Complète

Lis l'aide memo et utilise des boîtes et des anneaux.




5. Devinette : qui suis-je ?

Je suis plus petit que	
Je suis plus grand que	

Réponse

CP-NC19 : échanger 10 contre 1 jusqu'à 60**Activités * correction pour l'enseignant**

1. Léo a **compté** ses poissons dans son aquarium en les groupant par 10.



- c) Combien Léo a-t-il de poissons dans son aquarium ? **2** dizaines et **9** unités.
 d) Il y a **29** poissons dans l'aquarium de Léo.




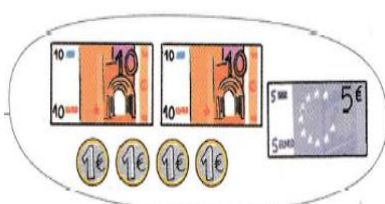

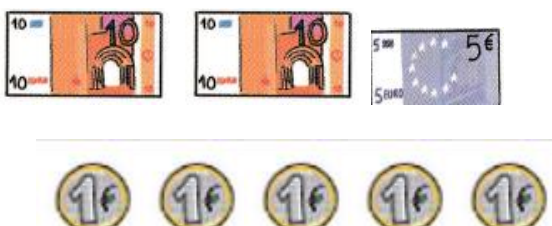

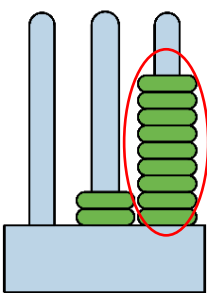
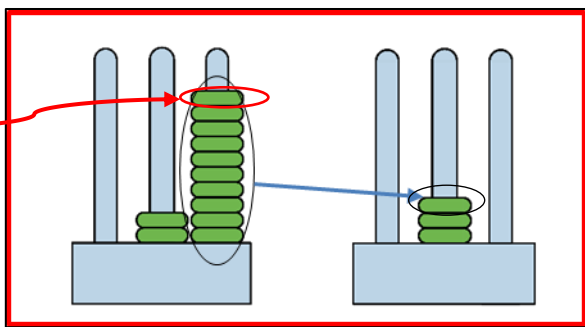
2. Max offre 1 poisson à Léo. Léo l'ajoute dans son aquarium.

a) colorie autant d'anneaux que de poissons dans l'aquarium de Léo.	b) échange 10 contre 1 et dessine ce que tu obtiens.

- c) Combien y a-t-il maintenant de poissons dans l'aquarium de Léo ?
3 dizaines et **0** unités.
 d) Maintenant, il y a **30** poissons dans l'aquarium de Léo.

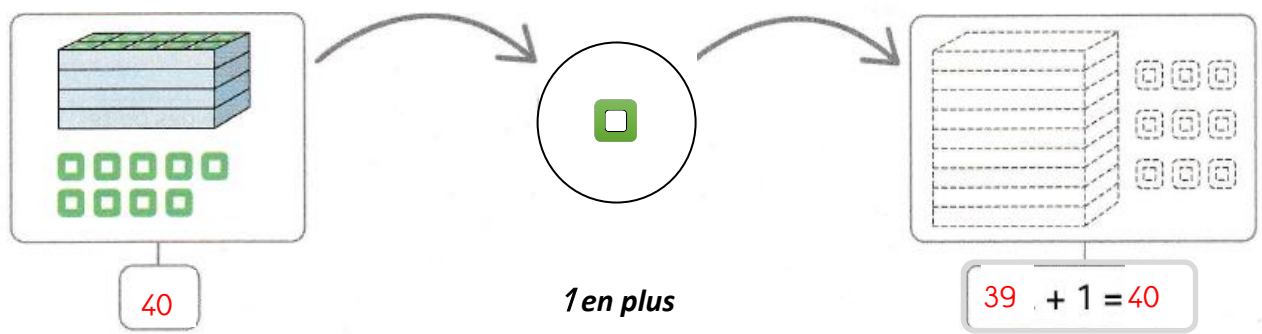
3. **Problème** : As-tu assez d'argent pour payer avec 30 € ?

Utilise l'abaque pour écrire le prix des jouets et **complète** le tableau.

	1 ^{er} achat	2 ^{ème} achat	Total des achats				
achats							
prix	Prix du 1 ^{er} achat	Prix du 2 ^{ème} achat	Prix total				
avec la monnaie			 ou 				
écrit sur l'abaque		1 anneau en plus					
écrit avec les bandes	<table border="1"><tr><td>2</td><td>9</td></tr></table>	2	9		<table border="1"><tr><td>3</td><td>0</td></tr></table>	3	0
2	9						
3	0						

c) **As-tu** assez d'argent ? **OUI** ~~NON~~

4. Complète.



5. Devinette : qui suis-je ?

Je suis plus petit que 50	
Je suis plus grand que 48	

Je suis le nombre 49 car 49 c'est 1 de plus que 48 et 1 de moins que 50