





















Consigne : entoure la réponse qui convient	Réponses
<p>Question 1</p> <p>Combien faut-il de pièces de 1 € pour faire  ?</p> 	<p>A ► 5</p> <p>B ► 10</p> <p>C ► 12</p> <p>D ► Je ne sais pas.</p>
<p>Question 2</p> <p>Combien faut-il de pièces de 2 € pour faire  ?</p> 	<p>A ► 10</p> <p>B ► 2</p> <p>C ► 5</p> <p>D ► Je ne sais pas.</p>
<p>Question 3</p> <p>Combien faut-il de billets de 5 € pour faire  ?</p> 	<p>A ► 2</p> <p>B ► 5</p> <p>C ► 10</p> <p>D ► Je ne sais pas.</p>
<p>Question 4</p> <p>Léo a 10 euros. Il achète une petite voiture à 6 euros. Combien lui reste-t-il ?</p>   <p> 6 €</p>	<p>A ► 16 €</p> <p>B ► 5 €</p> <p>C ► 4 €</p> <p>D ► Je ne sais pas.</p>

Correction pour le professeur : Evaluation **M6**Question 1 : A ► 0 ; **B ► 1** ; C ► 0 ; D ► 0Question 3 : **A ► 1** ; B ► 0 ; C ► 0 ; D ► 0Question 2 : A ► 0 ; B ► 0 ; **C ► 1** ; D ► 0Question 4 : A ► 0 ; B ► 0 ; **C ► 1** ; D ► 0



PRENOM : _____

Pour chaque question entoure la réponse qui convient.

Questions	Réponses
<p>Question 1</p> <p>Combien faut-il de pièces de 1 € pour faire  ?</p> 	<p>A ► 5</p> <p>B ► 10</p> <p>C ► 12</p> <p>D ► Je ne sais pas.</p>
<p>Question 2</p> <p>Combien faut-il de pièces de 2 € pour faire  ?</p> 	<p>A ► 10</p> <p>B ► 2</p> <p>C ► 5</p> <p>D ► Je ne sais pas.</p>
<p>Question 3</p> <p>Combien faut-il de billets de 5 € pour faire  ?</p> 	<p>A ► 2</p> <p>B ► 5</p> <p>C ► 10</p> <p>D ► Je ne sais pas.</p>
<p>Question 4</p> <p>Léo a 10 euros. Il achète une petite voiture à 6 euros. Combien lui reste-t-il ?</p>   <div data-bbox="715 1921 818 2000">6 €</div> 	<p>A ► 16 €</p> <p>B ► 5 €</p> <p>C ► 4 €</p> <p>D ► Je ne sais pas.</p>