
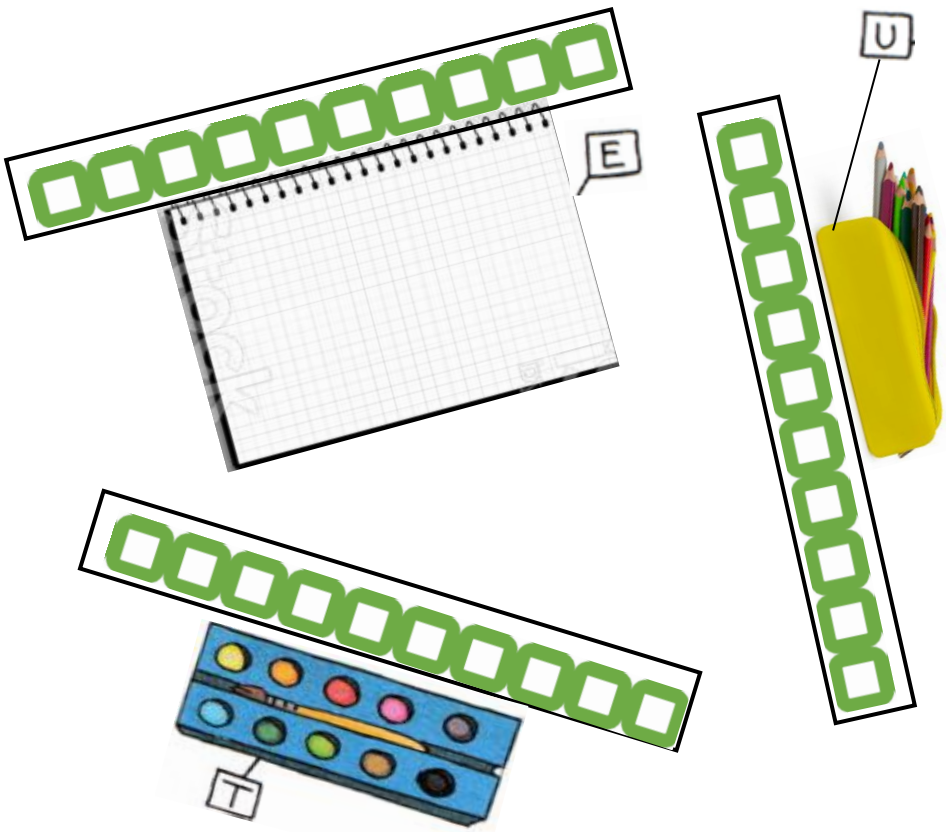
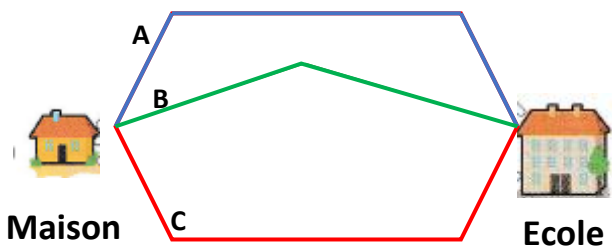
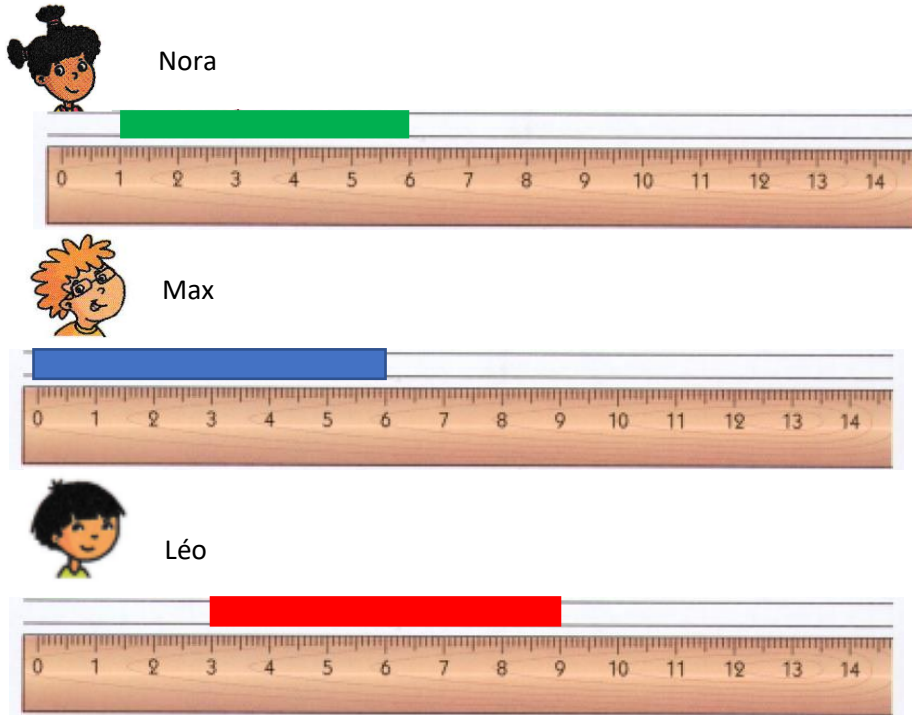




<b>Consigne : entoure la réponse qui convient</b>	<b>Réponses</b>
<p style="text-align: center;"><b>Question 1</b></p> <p>Combien mesure la bande bleue ?</p> 	<p>A ► 8 <input checked="" type="checkbox"/></p> <p>B ► 9 <input type="checkbox"/></p> <p>C ► 10 <input type="checkbox"/></p> <p>D ► Je ne sais pas.</p>
<p style="text-align: center;"><b>Question 2</b></p> <p>Quel est l'objet qui mesure entre 5 <input type="checkbox"/> et 6 <input type="checkbox"/> ?</p> 	<p>A ► la trousse U</p> <p>B ► <u>la boîte de peinture T</u></p> <p>C ► le cahier E</p> <p>D ► Je ne sais pas.</p>
<p style="text-align: center;"><b>Question 3</b></p> <p>Mesure les 3 chemins avec ta règle. Quel est le chemin le plus court entre la maison et l'école ?</p> 	<p>A ► le chemin violet A</p> <p>B ► <u>le chemin vert B</u></p> <p>C ► le chemin rouge C</p> <p>D ► Je ne sais pas.</p>

Question 4

Les enfants Nora, Léo et Max ont colorié une bande qui mesure 6 cm.



Qui s'est trompé ?

A ► Léo

B ► Max

C ► Nora

D ► Je ne sais pas.


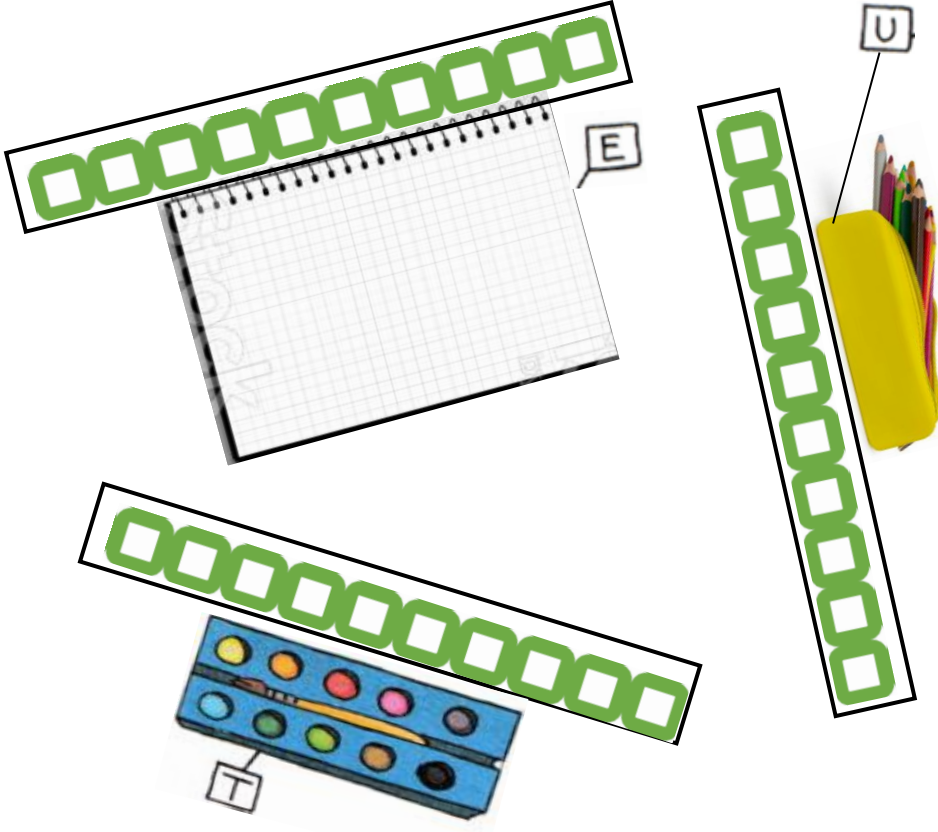
Evaluation M4

Question 1 : A ► 1 ; B ► 0 ; C ► 0 ; D ► 0  
 Question 3 : A ► 0 ; B ► 1 ; C ► 0 ; D ► 0

Question 2 : A ► 0 ; B ► 1 ; C ► 0 ; D ► 0  
 Question 4 : A ► 0 ; B ► 0 ; C ► 1 ; D ► 0

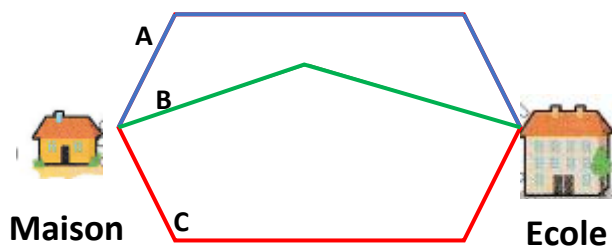


Pour chaque question entoure la réponse qui convient.

Questions	Réponses
<p style="text-align: center;"><b>Question 1</b></p> <p>Combien mesure la bande bleue ?</p> 	<p>A ► 8 <input type="checkbox"/></p> <p>B ► 9 <input type="checkbox"/></p> <p>C ► 10 <input type="checkbox"/></p> <p>D ► Je ne sais pas.</p>
<p style="text-align: center;"><b>Question 2</b></p> <p>Quel est l'objet qui mesure entre 5 <input type="checkbox"/> et 6 <input type="checkbox"/> ?</p> 	<p>A ► la trousse U</p> <p><u>B ► la boîte de peinture T</u></p> <p>C ► le cahier E</p> <p>D ► Je ne sais pas.</p>

### Question 3

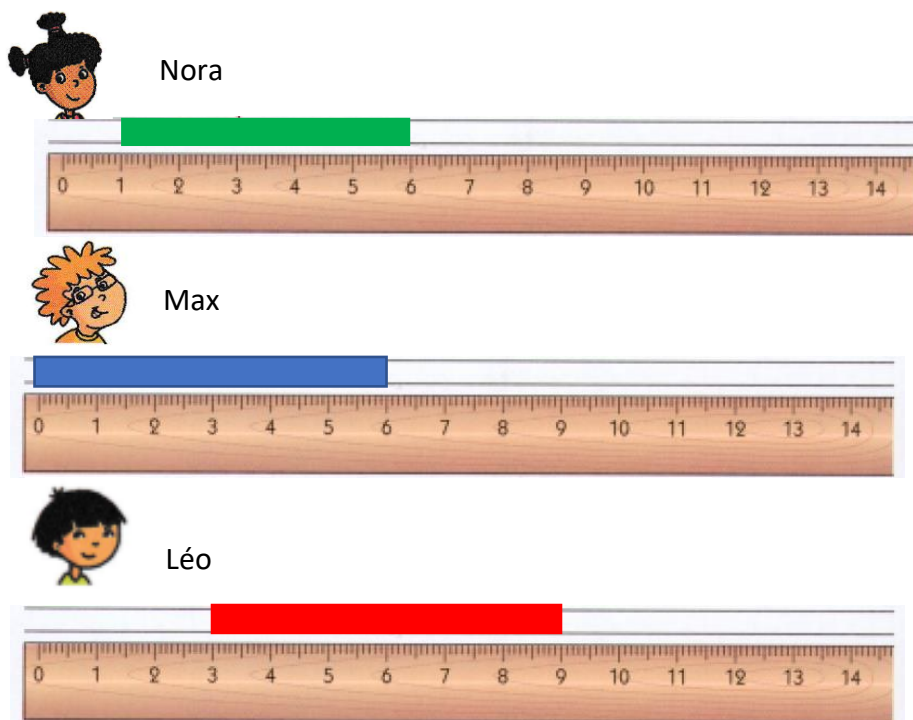
Mesure les 3 chemins avec ta règle.  
 Quel est le chemin le plus court entre la maison et l'école ?



- A ► le chemin violet A
- B ► le chemin vert B
- C ► le chemin rouge C
- D ► Je ne sais pas.

### Question 4

Les enfants Nora, Léo et Max ont colorié une bande qui mesure 6 cm.



Qui s'est trompé ?

- A ► Léo
- B ► Max
- C ► Nora
- D ► Je ne sais pas.