


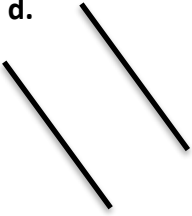

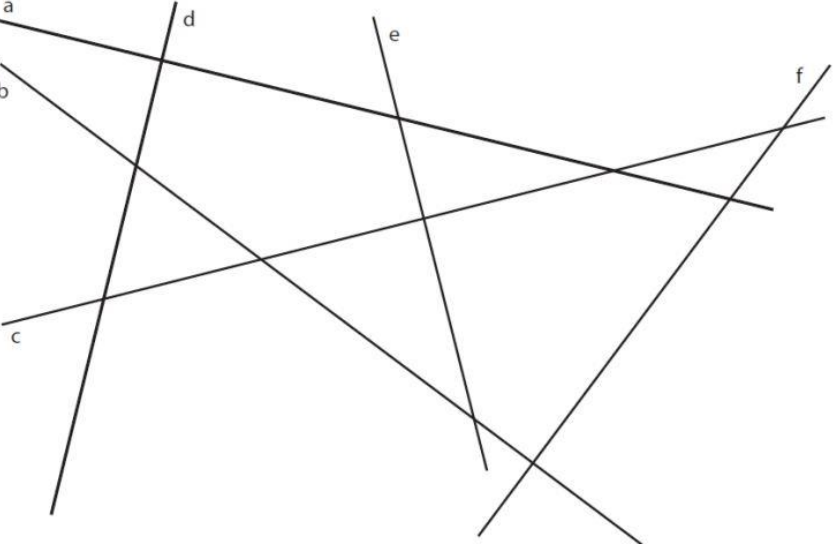




G2 : reconnaître et tracer des droites parallèles ou perpendiculaires

Page 1 et 2 : évaluation corrigée pour l'enseignant (la réponse juste est indiquée en rouge)

Page 3 et 4 : évaluation pour les élèves en cas de passation sur feuille.

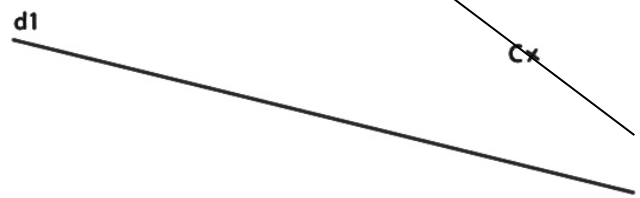
<i>Consigne : entoure la réponse qui convient</i>		<i>Réponses</i>			
Question 1					
a. 	b. 	c. 	d. 	e. 	A ► b, d, e B ► a, b, e C ► a, c, D ► Je ne sais pas
Les droites parallèles sont les droites ... ?					
Question 2					
		A ► d et b B ► d et a C ► f et a D ► Je ne sais pas			
Les droites perpendiculaires sont ... ?					

Question 3



La droite parallèle à d1 passant par C est ... ?

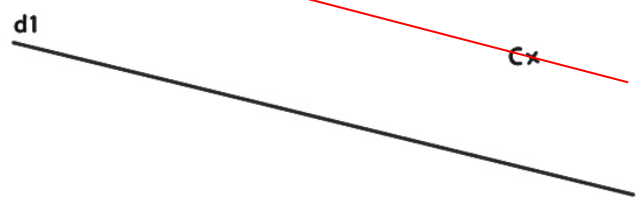
A ►



B ►

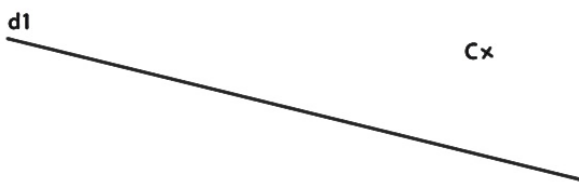


C ►



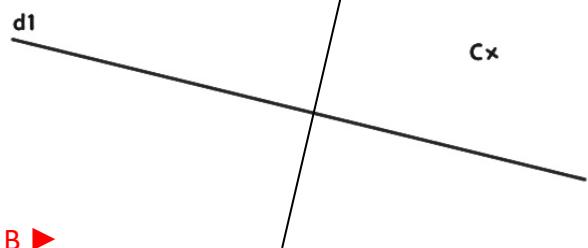
D ► Je ne sais pas

Question 4

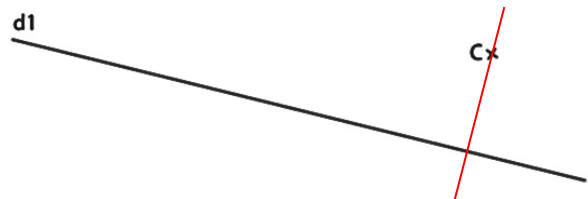


La droite perpendiculaire à d1 passant par C est ... ?

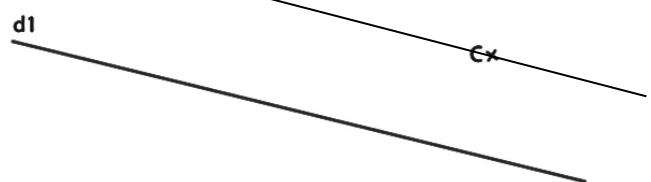
A ►



B ►



C ►



D ► Je ne sais pas

Récapitulatif

Question 1 : A ► 1 ; B ► 0 ; C ► 0 ; D ► 0	Question 3 : A ► 0 ; B ► 0 ; C ► 1 ; D ► 0
Question 2 : A ► 0 ; B ► 1 ; C ► 0 ; D ► 0	Question 4 : A ► 0 ; B ► 1 ; C ► 0 ; D ► 0
Réponses aux questions	Parcours d'entraînement individualisé
4 réponses correctes	activités ***
2 ou 3 réponses correctes	activités **
0 ou 1 réponse correcte	activités *






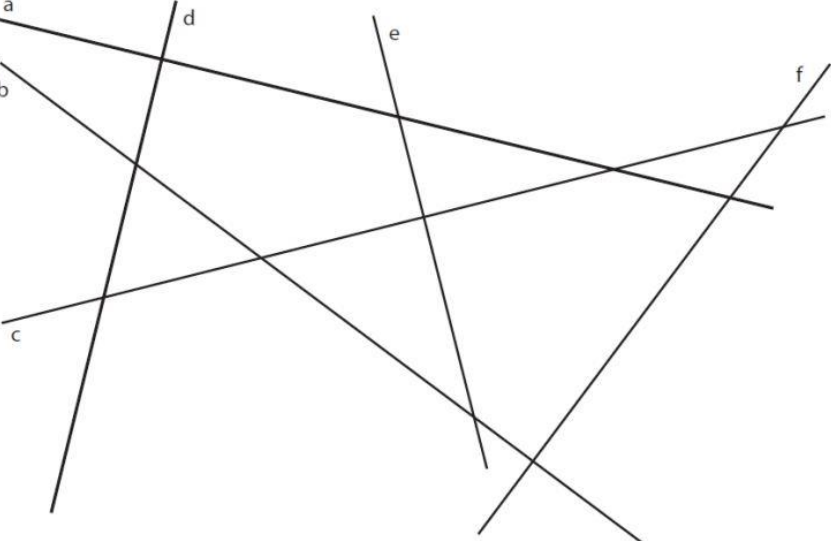


CM2 - EVALUATION : domaine G

G2 : reconnaître et tracer des droites parallèles ou perpendiculaires

PRENOM : _____

Consigne : pour chaque question entoure la réponse qui convient.

Questions	Réponses
<p style="text-align: center;">Question 1</p> <div style="display: flex; justify-content: space-around;"> <div style="border: 1px solid black; padding: 5px; width: 15%;"> <p>a.</p>  </div> <div style="border: 1px solid black; padding: 5px; width: 15%;"> <p>b.</p>  </div> <div style="border: 1px solid black; padding: 5px; width: 15%;"> <p>c.</p>  </div> <div style="border: 1px solid black; padding: 5px; width: 15%;"> <p>d.</p>  </div> <div style="border: 1px solid black; padding: 5px; width: 15%;"> <p>e.</p>  </div> </div> <p>Les droites parallèles sont ... ?</p>	<p>A ► b, d, e B ► a, b, e C ► a, c, D ► Je ne sais pas</p>
<p style="text-align: center;">Question 2</p>  <p>Les droites perpendiculaires sont ... ?</p>	<p>A ► d et b B ► d et a C ► f et a D ► Je ne sais pas</p>

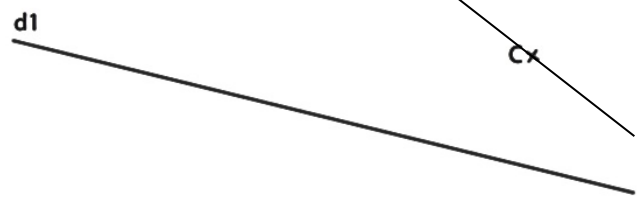
Prénom : _____

Question 3

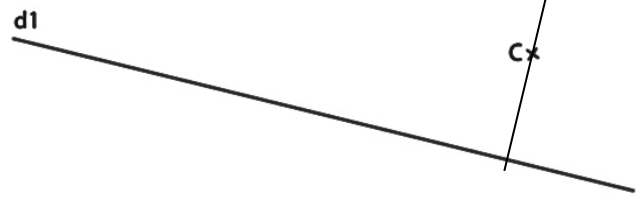


La droite parallèle à d1 passant par C est ... ?

A ►



B ►



C ►



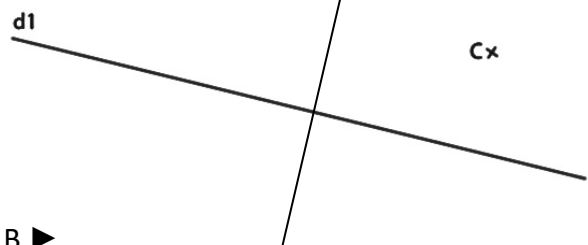
D ► Je ne sais pas

Question 4

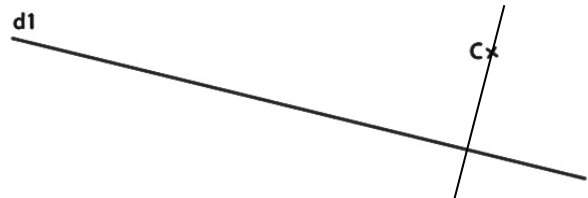


La droite perpendiculaire à d1 passant par C est ... ?

A ►



B ►



C ►



D ► Je ne sais pas