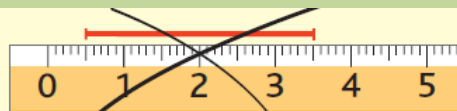



CE2-M3 : connaître et utiliser des unités de longueur**Aide-memo**

En décimètres, en centimètres ou en millimètres ?



1 cm, c'est 10 mm.

Le segment **bleu** mesure 35 mm.Le segment **bleu** mesure 3 cm et 5 mm.Le segment **rouge** mesure 35 mm.

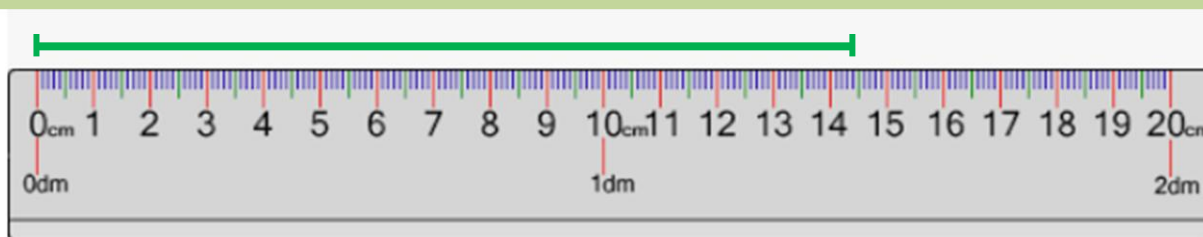
Tu te trompes, il faut partir du 0.



1 dm, c'est 10 cm.



1 dm, c'est aussi 100 mm.

Le segment **vert** mesure 145 mmLe segment **vert** mesure 14 cm 5 mmLe segment **vert** mesure 1 dm 4 cm 5 mm