









Consigne : entoure la réponse qui convient	Réponses
<p align="center"><b>Question 1</b></p> <p>Combien y a-t-il de minutes dans 2 h et 37 min ?</p>	<p>A ► 97 minutes</p> <p><b>B ► 157 minutes</b></p> <p>C ► 137 minutes</p> <p>D ► Je ne sais pas.</p>
<p align="center"><b>Question 2</b></p> <p>Combien de secondes se sont écoulées entre les 2 temps de l'horloge ?</p> <div style="display: flex; align-items: center; justify-content: center; margin: 10px 0;"> <div style="border: 1px solid black; border-radius: 10px; padding: 5px 15px; margin: 0 10px;">03 : 05 : 34</div> <span>et</span> <div style="border: 1px solid black; border-radius: 10px; padding: 5px 15px; margin: 0 10px;">03 : 06 : 34</div> </div> <p> Lola dit : « il s'est écoulé 1 minute ».</p> <p> Léo dit : « il s'est écoulé 60 secondes ».</p> <p> Max dit : « il s'est écoulé 1 minute 34 secondes ».</p> <p>Qui s'est trompé ?</p>	<p>A ► </p> <p>B ► </p> <p><b>C ► </b></p> <p>D ► Je ne sais pas.</p>
<p align="center"><b>Question 3</b></p> <div style="display: flex; align-items: center; justify-content: center; margin: 10px 0;"> <div style="border: 1px solid black; border-radius: 10px; padding: 5px 15px; margin: 0 10px;">13 : 45 : 17</div> <span>→ 50 secondes après →</span> <div style="border: 1px solid black; border-radius: 10px; padding: 5px 15px; margin: 0 10px;">?</div> </div> <p>Quelle heure sera-t-il ?</p>	<p><b>A ► 13 : 46 : 07</b></p> <p>B ► 13 : 45 : 67</p> <p>C ► 13 : 45 : 07</p> <p>D ► Je ne sais pas.</p>
<p align="center"><b>Question 4</b></p> <p>Lola part à 13 h de chez elle, elle met une demi-heure pour aller au cinéma. Le film dure 2 h.</p> <p>A quelle heure sort-elle du cinéma ?</p>	<p>A ► 15 h</p> <p>B ► 13 h 30</p> <p><b>C ► 15 h 30</b></p> <p>D ► Je ne sais pas.</p>

Correction pour le professeur : Evaluation **M2**

Question 1 : A ► 0 ; **B ► 1** ; C ► 0 ; D ► 0

Question 3 : **A ► 1** ; B ► 0 ; C ► 0 ; D ► 0







Question 2 : A ► 0 ; B ► 0 ; **C ► 1** ; D ► 0

Question 4 : A ► 0 ; B ► 0 ; **C ► 1** ; D ► 0



PRENOM : \_\_\_\_\_

Pour chaque question entoure la réponse qui convient.

<p><b>Question 1</b></p> <p>Combien y a t-il de minutes dans <b>2h et 37 min</b> ?</p>	<p>A ► 97 minutes</p> <p>B ► 157 minutes</p> <p>C ► 137 minutes</p> <p>D ► Je ne sais pas.</p>
<p><b>Question 2</b></p> <p>Combien de secondes se sont écoulées entre les 2 temps de l'horloge ?</p> <div><div>03 : 05 : 34</div> et <div>03 : 06 : 34</div></div> <p> Lola dit : « <i>il s'est écoulé 1 minute</i> ».</p> <p> Léo dit : « <i>il s'est écoulé 60 secondes</i> ».</p> <p> Max dit : « <i>il s'est écoulé 1 minute 34 secondes</i> ».</p> <p>Qui s'est trompé ?</p>	<p>A ► </p> <p>B ► </p> <p>C ► </p> <p>D ► Je ne sais pas.</p>
<p><b>Question 3</b></p> <div><div>13 : 45 : 17</div> → 50 secondes après → <div>?</div></div> <p>Quelle heure sera-t-il ?</p>	<p>A ► 13 : 46 : 07</p> <p>B ► 13 : 45 : 67</p> <p>C ► 13 : 45 : 07</p> <p>D ► Je ne sais pas.</p>
<p><b>Question 4</b></p> <p>Lola part à 13h de chez elle, elle met une demi-heure pour aller au cinéma. Le film dure 2h.</p> <p>A quelle heure sort-elle du cinéma ?</p>	<p>A ► 15 h</p> <p>B ► 13 h 30</p> <p>C ► 15 h 30</p> <p>D ► Je ne sais pas.</p>