

CE2-M1 : connaître les unités de mesure du temps**Activités ** fiche pour les élèves**

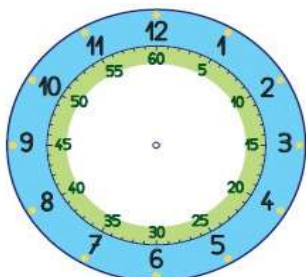
Prénom _____

6. **Dessine** les aiguilles sur les horloges puis **complète**.**Aide - memo**

Il est 14 h 15 minutes

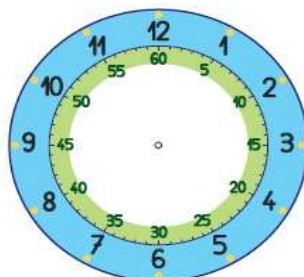
Il est 18 h 40 minutes

Il est 19 h 55 minutes



..... h

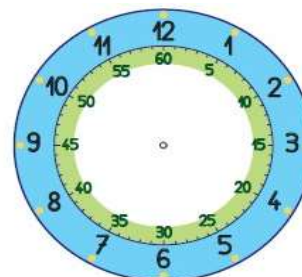
..... minutes après heures



..... h

..... minutes après heures

..... minutes avant heures



..... h

..... minutes après heures

..... minutes avant heures

7. **Entoure** les horaires identiques d'une même couleur.

3 heures moins quart

03 : 50

3 heures et quart

14 : 30

03 : 15

2 heures et demie

02 : 45

4 heures moins 10

8. **Ecris** les horaires en minutes.

Un quart d'heure ↔ min

1 heure et demie ↔ min

Trois quarts d'heure ↔ min

2 heures et quart ↔ min

1 heure et 55 minutes ↔ min

2 heures moins le quart ↔ min

9. **Problème :**

Léo a pris un train à 15 h 45 pour ↔Orléans. Le voyage a duré une heure et demie.

A quelle heure est-il arrivé ?

Léo est arrivé à

10. Voici le calendrier d'un mois de juin. Les élèves de CE2 vont à la piscine le lundi après-midi et au gymnase le vendredi matin.

Iront-ils plus souvent à la piscine ou au gymnase au cours du mois de juin ?

Réponds en utilisant le calendrier ci-dessous.

JUN						
Lundi	Mardi	Mercredi	Jeudi	Vendredi	Samedi	Dimanche
				1	2	3
4	5	6	7	8	9	10
11	12	13	14	15	16	17
18	19	20	21	22	23	24
25	26	27	28	29	30	

Réponse :

CE2-M2 : connaître les unités de mesure du temps**Activités ** correction pour l'enseignant**

6. **Dessine** les aiguilles sur les horloges puis **complète**.

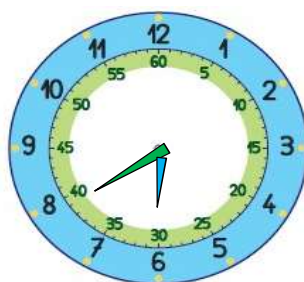
Il est 14 h 15 minutes



2 h 15

15 minutes après 2 heures

Il est 18 h 40 minutes



6 h 40

40 minutes après 6 heures

20 minutes avant 7 heures

Il est 19 h 55 minutes



7 h 55

55 minutes après 7 heures

5 minutes avant 8 heures

7. **Entoure** les horaires identiques d'une même couleur.

3 heures moins quart	03:50	3 heures et quart	14:30
03:15	2 heures et demie	02:45	4 heures moins 10

8. **Écris** les horaires en minutes.

Un quart d'heure ↔ 15 min

1 heure et demie ↔ 90 min

Trois quarts d'heure ↔ 45 min

2 heures et quart ↔ 135 min

1 heure et 55 minutes ↔ 115 min

2 heures moins le quart ↔ 105 min

9. **Problème**

Léo a pris un train à 15 h 45 pour Orléans. Le voyage a duré une heure et demie.

A quelle heure est-il arrivé ?

Léo est arrivé à 15h 45 + 1h 30 soit 16h et 75 min.

Au final, il est arrivé à 17h 15 min (60 min c'est 1 heure)

10. Voici le calendrier d'un mois de juin. Les élèves de CE2 vont à la piscine le lundi après-midi et au gymnase le vendredi matin. Iront-ils plus souvent à la piscine ou au gymnase au cours du mois de juin ?

Réponds en utilisant le calendrier ci-dessous.

JUIN						
Lundi	Mardi	Mercredi	Jeudi	Vendredi	Samedi	Dimanche
				1	2	3
4	5	6	7	8	9	10
11	12	13	14	15	16	17
18	19	20	21	22	23	24
25	26	27	28	29	30	

Réponse : ils iront le plus souvent au gymnase (5 matinées). Ils iront seulement 4 fois à la piscine.