
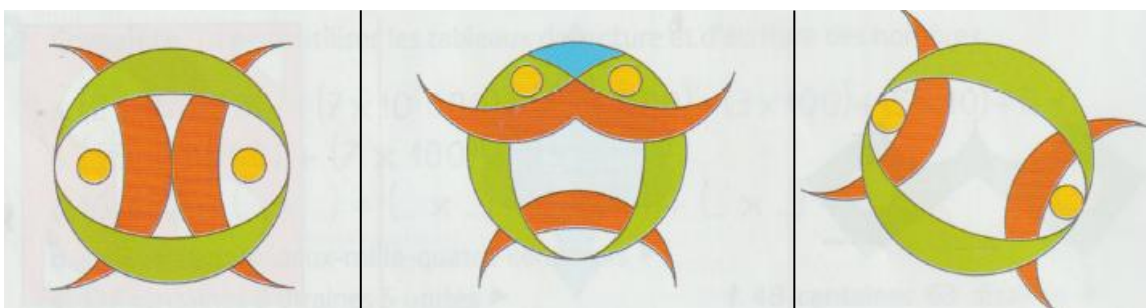


CE2-G8 : trouver les axes de symétrie d'une figure**Activités ** fiche pour les élèves**

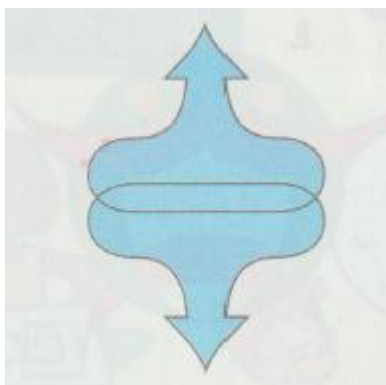
Prénom _____

6. **Observe** ces figures.**Aide - memo**Combien ces figures ont-elles d'axes de symétrie : 0, 1, ou 2 ? **Trace-les.**La figure *trèfle* a ... axes de symétrie.La figure *cœur* a ... axes de symétrie.La figure *pique* a ... axes de symétrie.La figure *carreau* a ... axes de symétrie.7. **Observe** ces figures. Combien ont-elles d'axes de symétrie : 0, 1, ou 2 ? **Trace-les.**

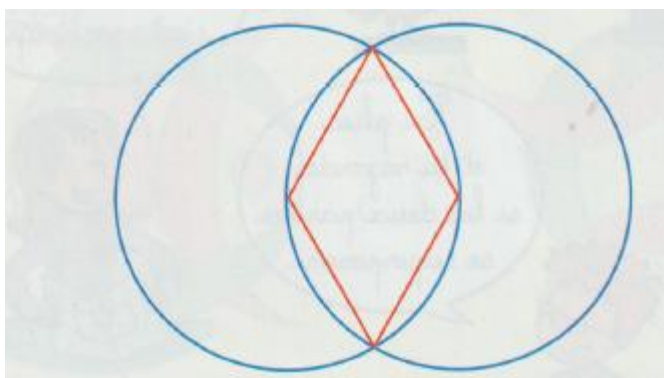
Il y a axes de symétrie.

Il y a axes de symétrie.

Il y a axes de symétrie

8. **Trouve** les axes de symétrie de chaque figure et **trace-les.**



Il y a ... axes de symétrie.



Il y a ... axes de symétrie.

Les gestes de la géométrie


9. **Reproduis** la figure sur le quadrillage et **trace** les axes de symétrie.



Entoure la réponse correcte :

- Il y a 0 axe de symétrie.
- Il y a 1 axe de symétrie.
- Il y a 4 axes de symétrie.

10. **Reproduis** la figure sur le quadrillage et **trace** les axes de symétrie.




Entoure la réponse correcte :

- Il y a 0 axe de symétrie.
- Il y a 1 axe de symétrie.
- Il y a 4 axes de symétrie.

CE2-G8 : trouver les axes de symétrie d'une figure**Activités ** correction pour l'enseignant**

6. **Observe** ces figures.

Combien ces figures ont-elles d'axes de symétrie : 0, 1, ou 2 ? **Trace**-les.



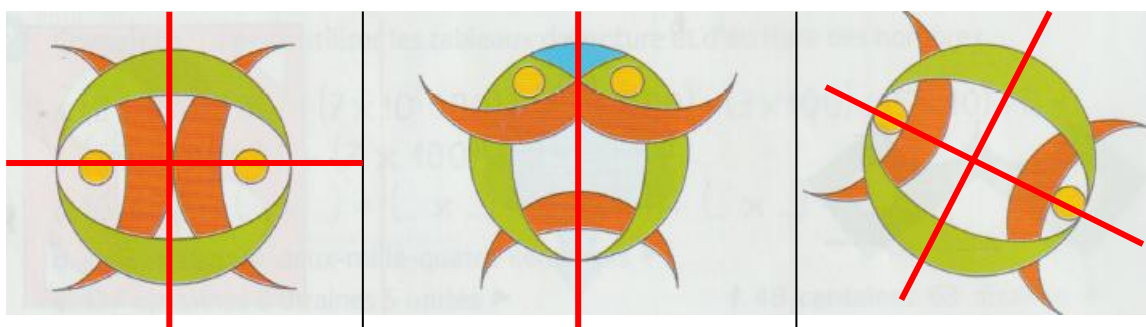
La figure *trèfle* a **1** axe de symétrie.

La figure *cœur* a **1** axe de symétrie.

La figure *pique* a **1** axe de symétrie.

La figure *carreau* a **2** axes de symétrie.

7. **Observe** ces figures. Combien ont-elles d'axes de symétrie : 0, 1, ou 2 ? **Trace**-les.

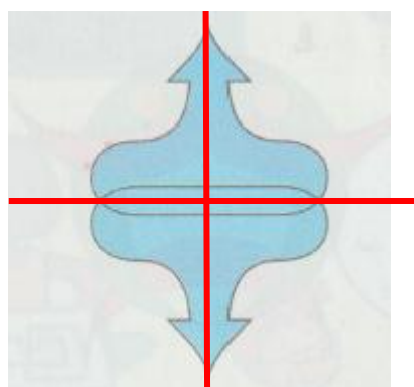


Il y a **2** axes de symétrie.

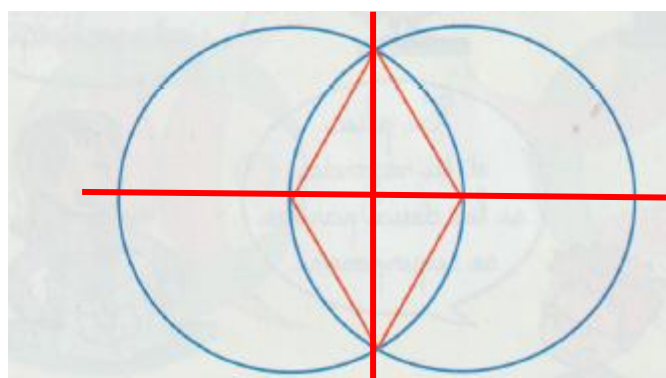
Il y a **1** axe de symétrie.

Il y a **2** axes de symétrie.

8. **Trouve** les axes de symétrie de chaque figure. **Trace**-les.





Il y a **2** axes de symétrie.



Il y a **2** axes de symétrie.

Les gestes de la géométrie

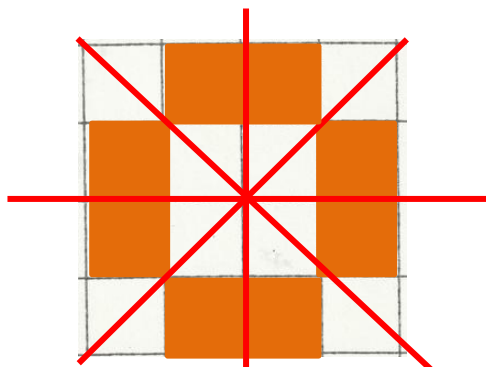

9. **Reproduis** la figure sur le quadrillage et **trace** les axes de symétrie.



Entoure la réponse correcte :

- Il y a 0 axe de symétrie.
- **Il y a 1 axe de symétrie.**
- Il y a 4 axes de symétrie.

10. **Reproduis** la figure sur le quadrillage et **trace** les axes de symétrie.



Entoure la réponse correcte :

- Il y a 0 axe de symétrie.
- Il y a 1 axe de symétrie.
- **Il y a 4 axes de symétrie.**