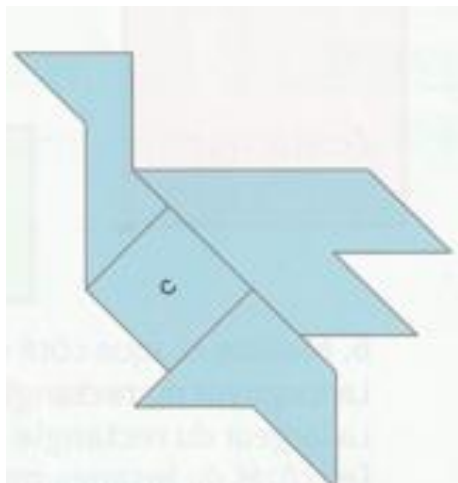


Activités *** fiche pour les élèves

Prénom _____

11. **Dessine** cette forme sur ton cahier en utilisant des pièces du carré de l'étoile.

Aide-memo

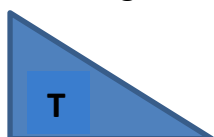


- a) Combien as-tu utilisé de triangles ?.....
- b) Combien as-tu utilisé de carrés ?
- c) Combien as-tu utilisé de losanges ?.....
- d) Combien as-tu utilisé de rectangles ?....

12. Tous ces quadrilatères sont composés de 4 triangles rectangles identiques.



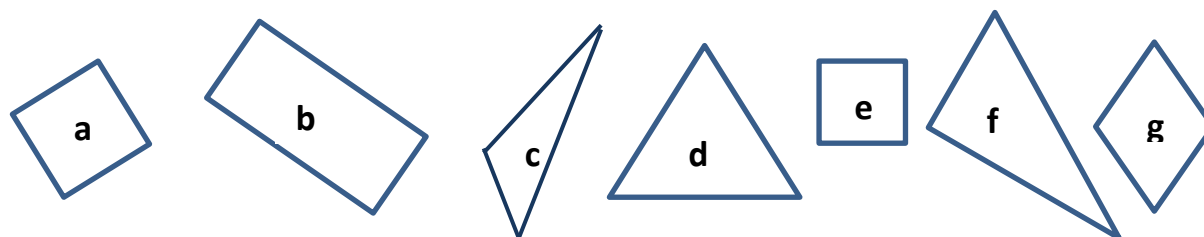
- a) en utilisant le gabarit T, **dessine** les triangles dans chaque quadrilatère



- b) **Complète** les phrases :

La longueur du rectangle **rose** mesure ... cm.La largeur du rectangle **vert** mesure ... mm.Les côtés du losange **bleu** mesurent tous ... cm ... mm.

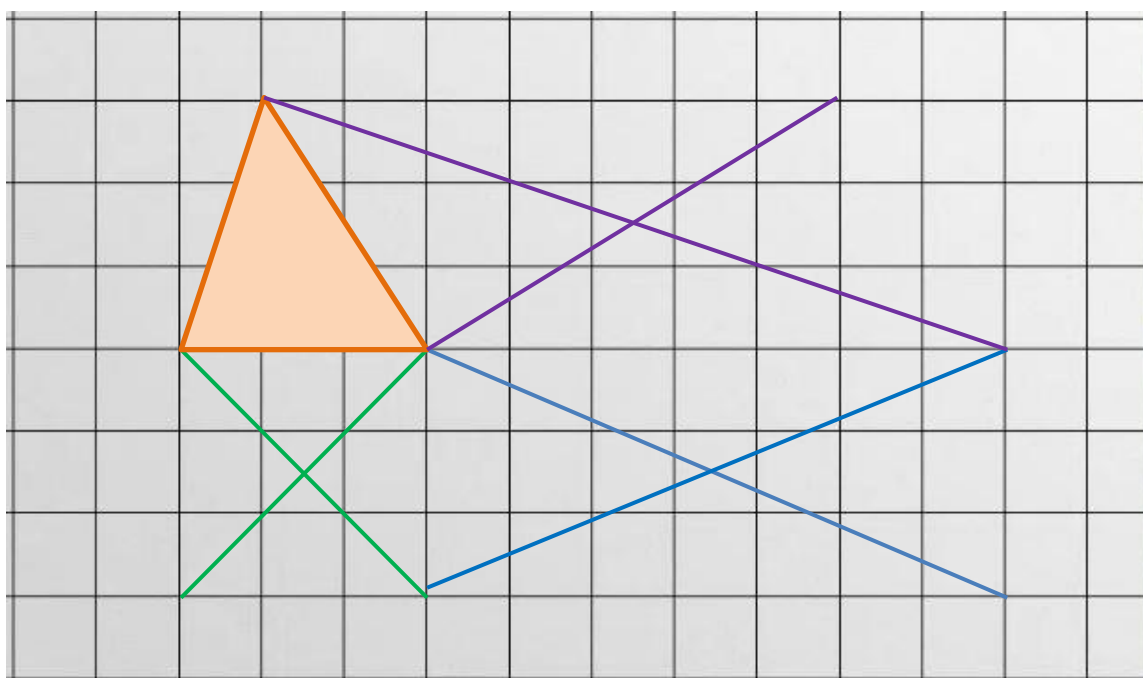
13. **Complète** le tableau en cochant les cases correctes.



	Tous les côtés de même longueur	3 côtés	2 côtés opposés de même longueur	0 angle droit	1 seul angle droit	4 angles droits	Nom du polygone
a						
b						
c						
d						
e						
f						
g						


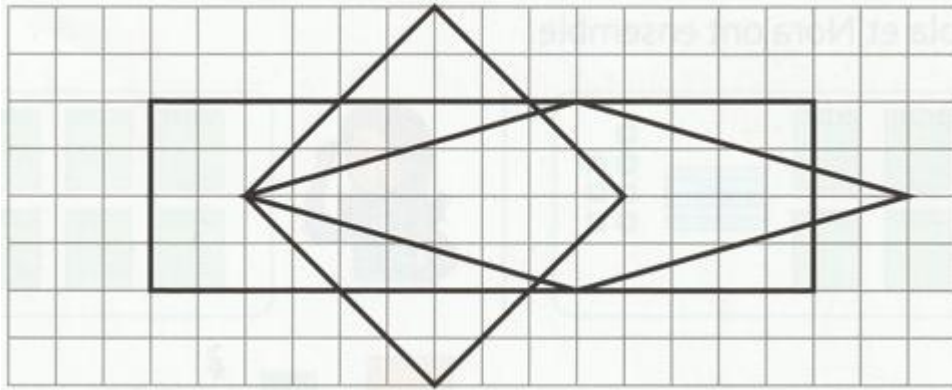
Les gestes de la géométrie

14. **Devinette** : quel **est** le dessin caché ? Pour le trouver, **trace** les 3 quadrilatères **vert**, **violet** et **bleu** dont les diagonales sont dessinées.



C'est le dessin

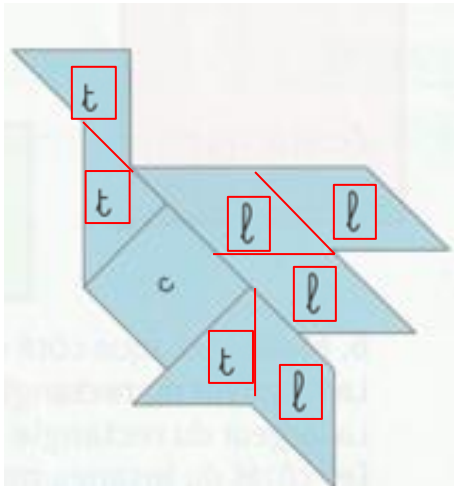
15. **Reproduis** cette figure sur le quadrillage : un rectangle, un carré et un losange.



Colorie-les : le carré **orange** est sur le rectangle **vert**. Le losange **violet** est au-dessus.

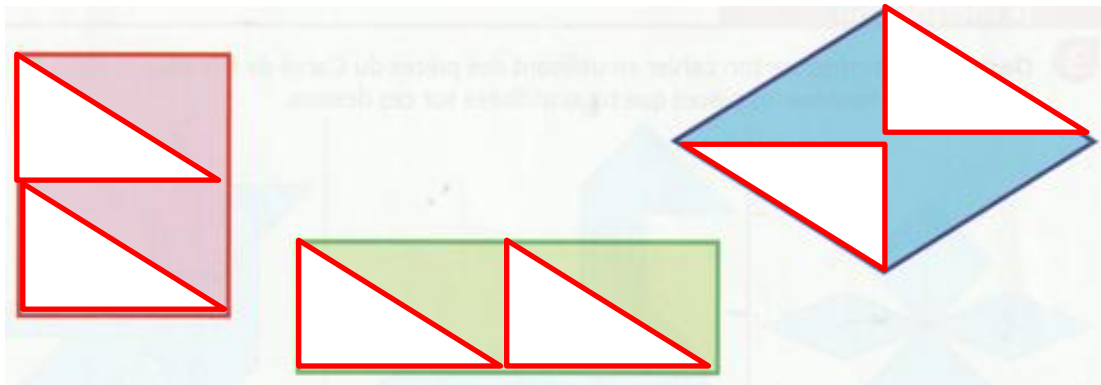
G5 : reconnaître et nommer des figures géométriques simples**Activités *** correction pour l'enseignant**

11. **Dessine** cette forme sur ton cahier en utilisant des pièces du carré de l'étoile.

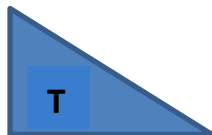


- a) Combien as-tu utilisé de triangles ?.....
- b) Combien as-tu utilisé de carrés ?
- c) Combien as-tu utilisé de losanges ?.....
- d) Combien as-tu utilisé de rectangles ?....

12. Toutes ces quadrilatères sont composés de 4 triangles rectangles identiques.



a) en utilisant le gabarit T, **dessine** les triangles dans chaque quadrilatère.



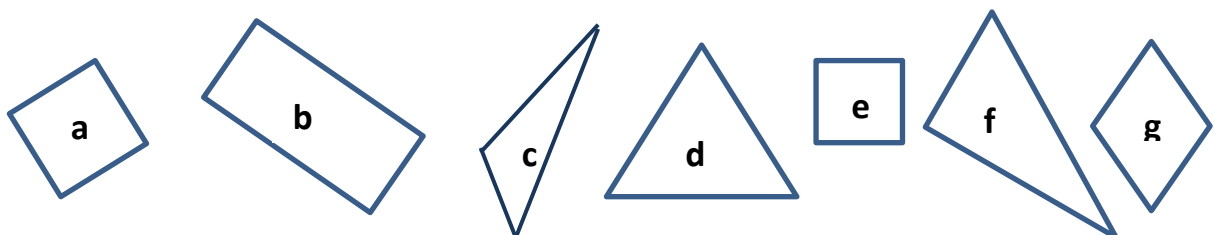
b) **Complète** les phrases :

La longueur du rectangle **rose** mesure **5** cm.

La largeur du rectangle **vert** mesure **25** mm.

Les côtés du losange **bleu** mesurent tous **4** cm **5** mm.

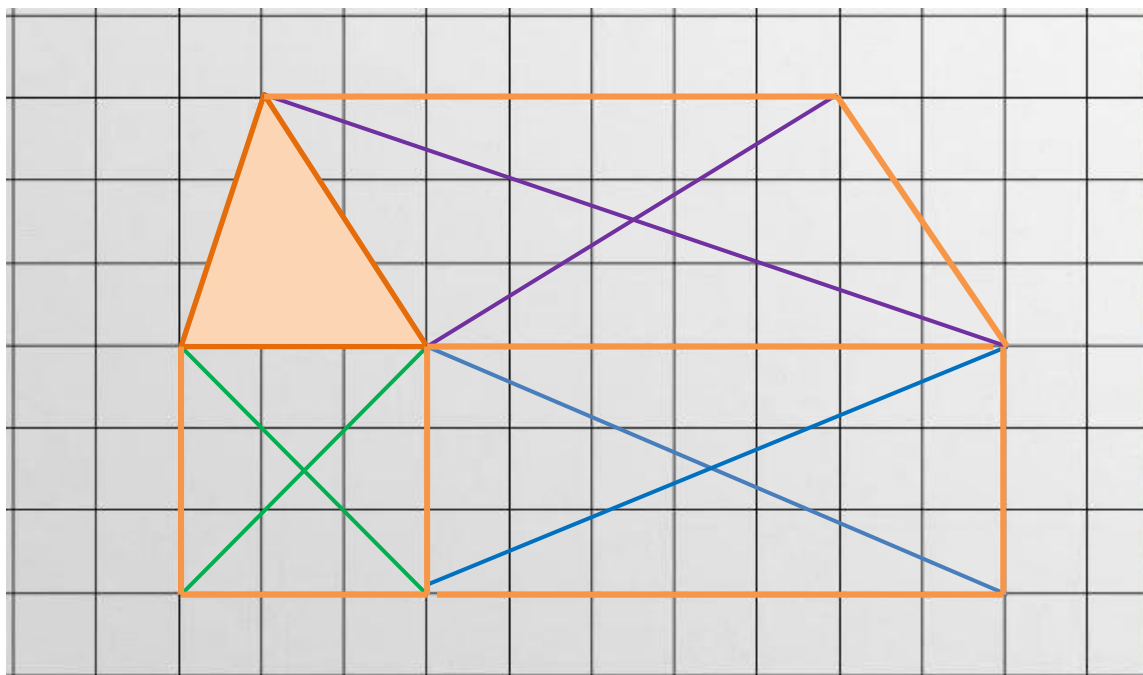
13. **Complète** le tableau en cochant les cases correctes.



	Tous les côtés de même longueur	3 côtés	2 côtés opposés de même longueur	0 angle droit	1 seul angle droit	4 angles droits	Nom du polygone
a	x		x			x	carré
b			x			x	rectangle
c		x		x			triangle
d	x	x					triangle équilatéral.
e	x		x			x	carré
f		x			x		triangle rectangle
g	x			x			losange

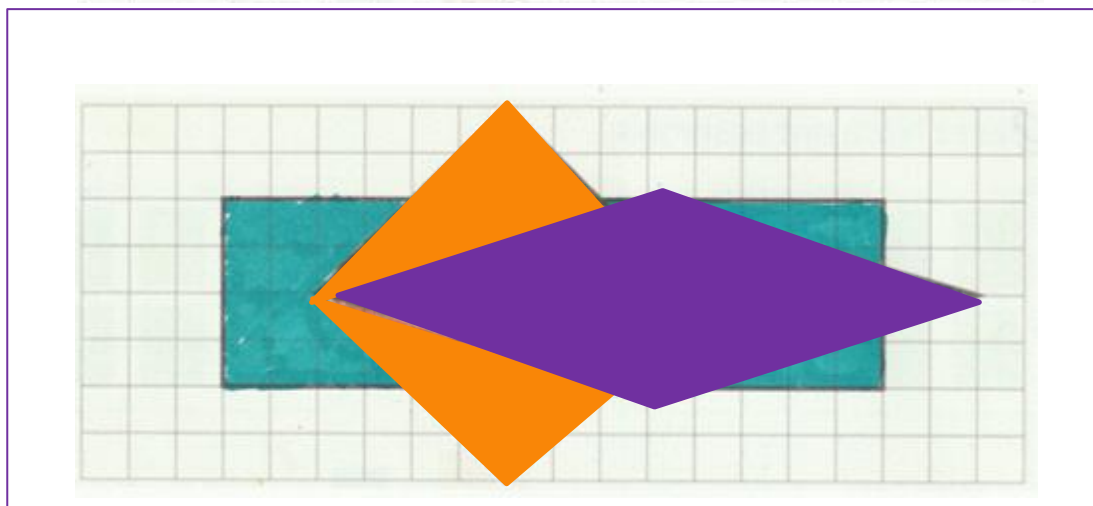
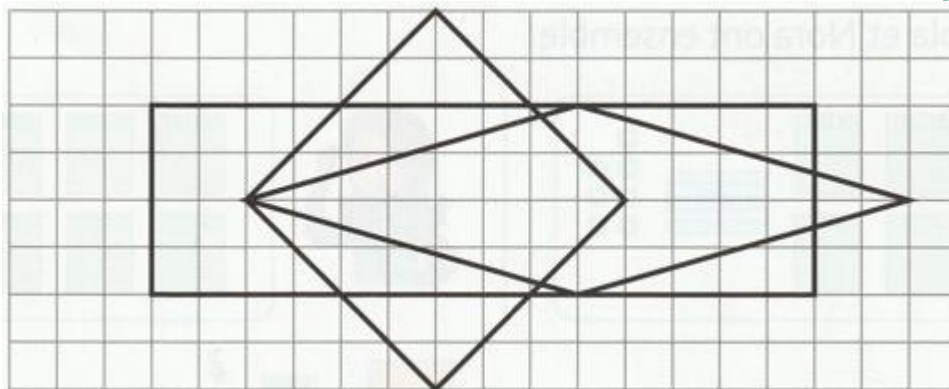
Les gestes de la géométrie

14. **Devinette** : quel **est** le dessin caché ? Pour le trouver, **trace** les 3 quadrilatères **vert**, **violet** et **bleu** dont les diagonales sont dessinées.



C'est le dessin d'une maison.

15. **Reproduis** cette figure sur le quadrillage : un rectangle, un carré et un losange.



Colorie-les : le carré **orange** est sur le rectangle **vert**. le losange **violet** est au-dessus.