

Activités ** fiche pour les élèves

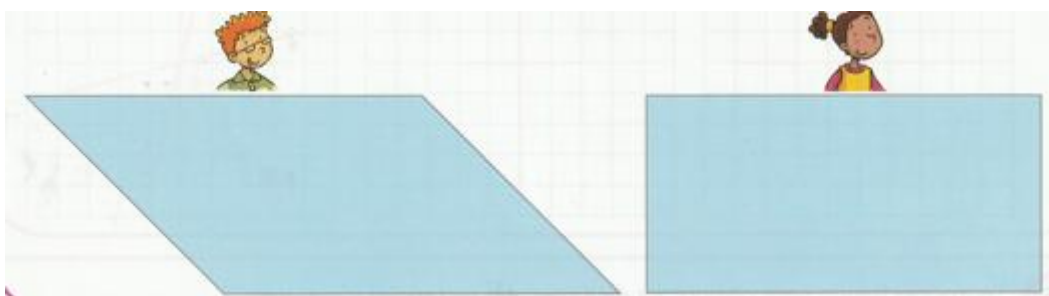
Prénom _____

6. Voici un des triangles du jeu du carré de l'étoile que tu vas utiliser comme gabarit.

Aide-memo

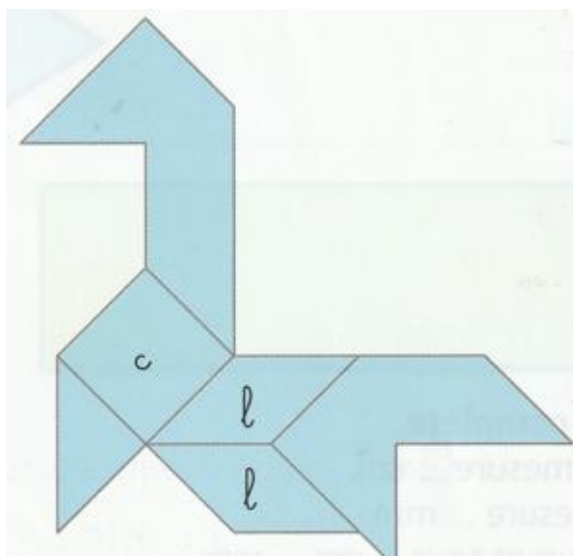


Max et Lola ont pris les 4 triangles de leur jeu et ils ont dessiné des formes.




- Vérifie** leur dessin en utilisant le gabarit bleu.
- Trace** les triangles dans les formes obtenues par Max et Lola.

7. **Dessine** cette forme sur ton cahier en utilisant des pièces du carré de l'étoile. Puis **trace** et **nomme** les pièces que tu as utilisées sur ce dessin.



- Combien as-tu utilisé de triangles ?.....
- Combien as-tu utilisé de carrés ?
- Combien as-tu utilisé de losanges ?.....
- Combien as-tu utilisé de rectangles ?

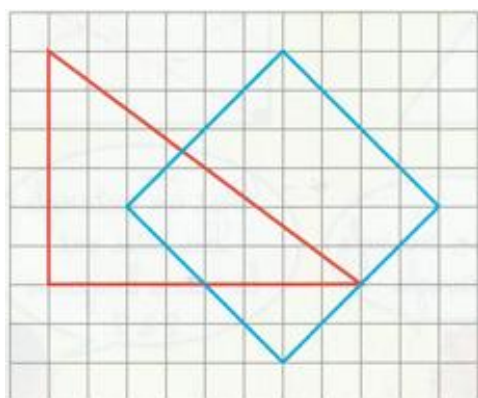
8. **Trouve** les nombres de pièces de ce puzzle et réponds aux questions.



- Combien y a-t-il de carrés ?
- Combien y a-t-il de rectangle ?
- Combien y a-t-il de losanges ?
- Combien y a-t-il de triangles rectangles ?
- Combien y a-t-il de pièces qui ne sont ni un carré, ni un losange, ni un rectangle, ni un triangle rectangle ?

Les gestes de la géométrie

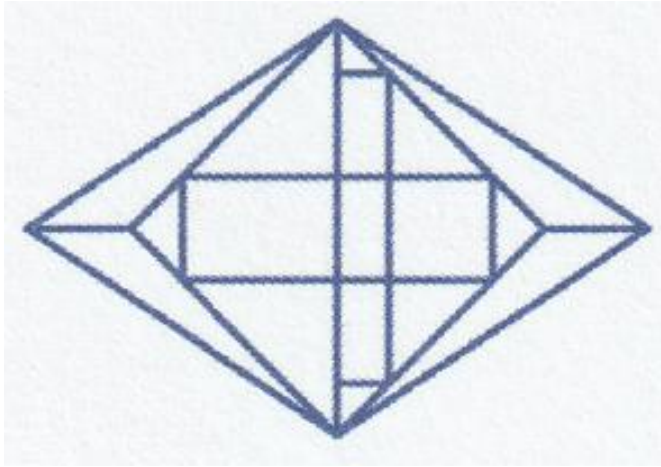
9. **Reproduis** sur le quadrillage ces deux formes. **Mesure** la longueur des côtés et **repère** les angles droits.



Comment s'appelle la forme rouge ?

Comment s'appelle la forme bleue ?

10. **Trouve** des formes et **repasse** leur contour.



- deux rectangles en **bleu**
- un triangle en **vert**
- un triangle rectangle en **rose**
- un carré en **violet**
- un losange en **orange**

6. Voici un des triangles du jeu du carré de l'étoile.

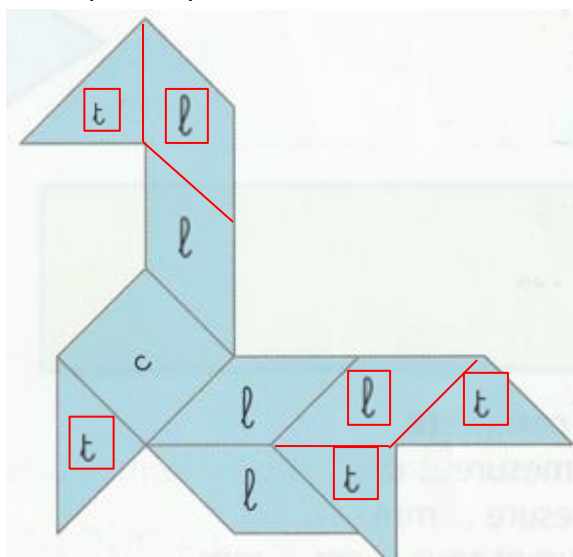


Max et Lola ont pris les 4 triangles de leur jeu et ils ont dessiné des formes.




- Vérifie** leur dessin en utilisant le gabarit bleu.
- Trace** les triangles dans les formes obtenues par Max et Lola.

7. **Dessine** cette forme sur ton cahier en utilisant des pièces du carré de l'étoile. Puis **trace** et **nomme** les pièces que tu as utilisées sur ce dessin.



- Combien as-tu utilisé de triangles ? **4**
- Combien as-tu utilisé de carrés ? **1**
- Combien as-tu utilisé de losanges ? **5**
- Combien as-tu utilisé de rectangles ? **0**

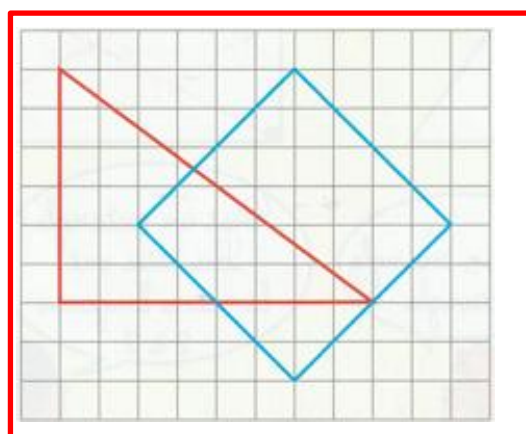
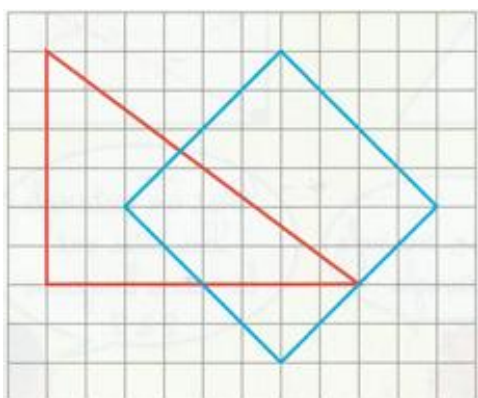
8. **Trouve** les nombres de pièces de ce puzzle et réponds aux questions.



- Combien y a-t-il de carrés ? **2**
- Combien y a-t-il de rectangles ? **2**
- Combien y a-t-il de losanges ? **1**
- Combien y a-t-il de triangles rectangles ? **7**
- Combien y a-t-il de pièces qui ne sont ni un carré, ni un losange, ni un rectangle, ni un triangle rectangle ? **1**

Les gestes de la géométrie

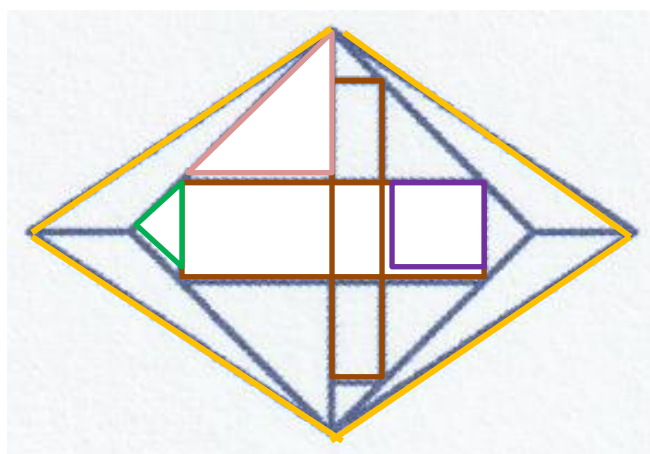
9. **Reproduis** sur le quadrillage ces deux formes. **Mesure** la longueur des côtés et **repère** les angles droits.



Comment s'appelle la forme rouge ? **un triangle rectangle**

Comment s'appelle la forme bleue ? **un carré**

10. **Trouve** des formes et **repasse** leur contour.



- deux rectangles en **marron**
- un triangle en **vert**
- un triangle rectangle en **rose**
- un carré en **violet**
- un losange en **orange**