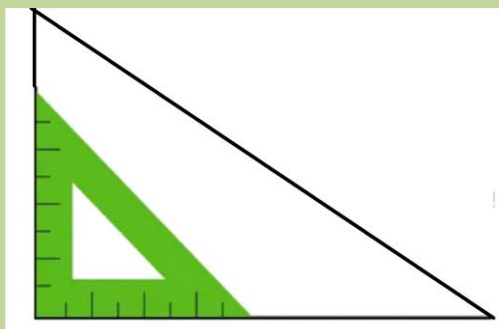
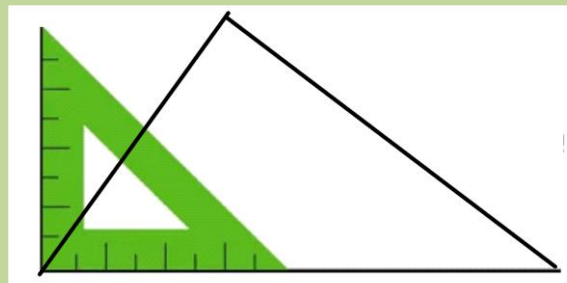


CE2-G4 : reconnaître des angles dans une figure géométrique**Aide-memo**

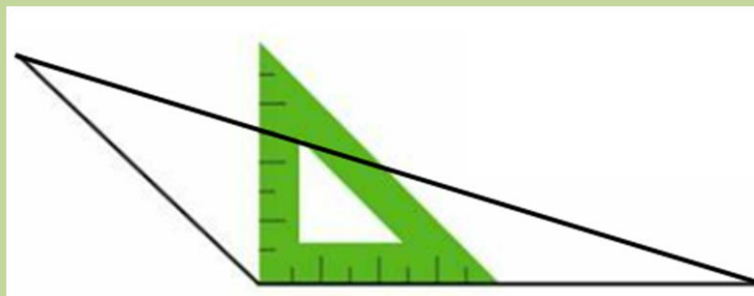
Un angle est soit aigu, soit droit, soit obtus.



Ceci est un angle **droit**.



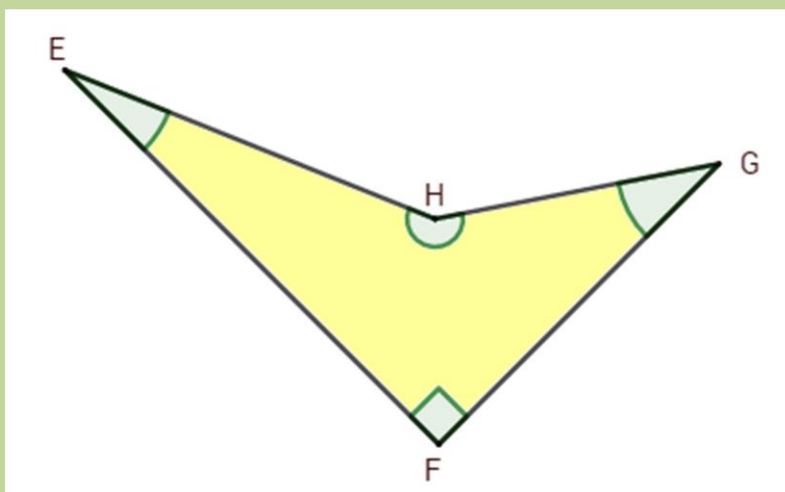
Un angle **aigu** est **plus petit** qu'un angle droit.



Un angle **obtus** est **plus grand** qu'un angle droit.

Dans une figure géométrique, il peut y avoir :
des angles droits, des angles aigus ou des angles obtus.

Exemple :



Les angles E et G sont aigus. L'angle H est obtus. L'angle F est droit.