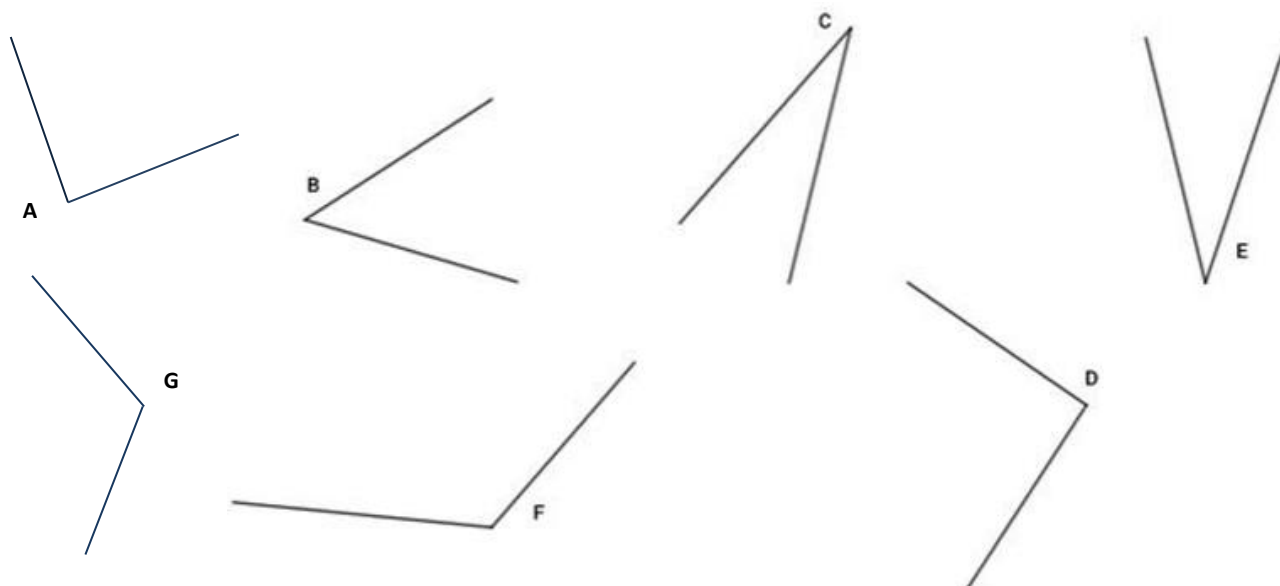


CE2-G4 : reconnaître des angles dans une figure géométrique**Activités *** fiche pour les élèves**

Prénom _____

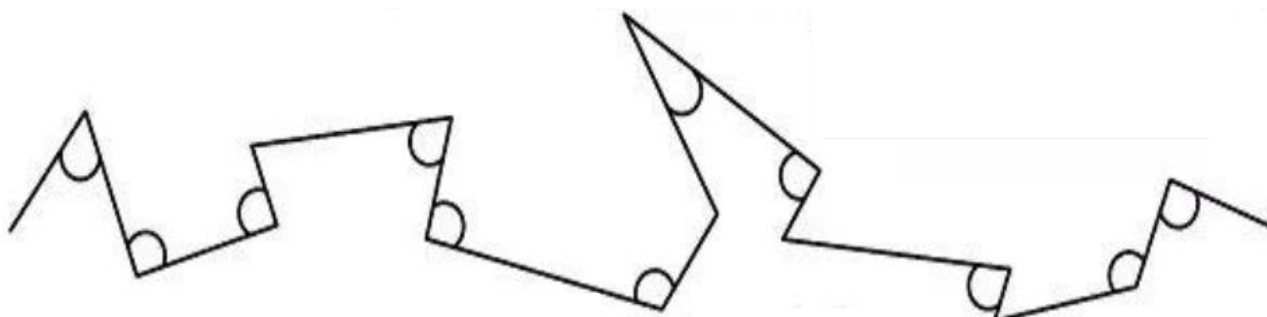
11. Prends ton équerre et **indique** dans le tableau les noms des angles droits ou aigus ou obtus.

Aide-memo

Angles droits							
Angles aigus							
Angles obtus							

12. **Colorie** de la bonne couleur.

Angle aigu	Angle droit	Angle obtus
Bleu	Vert	Jaune



13. Réponds aux affirmations par VRAI ou FAUX

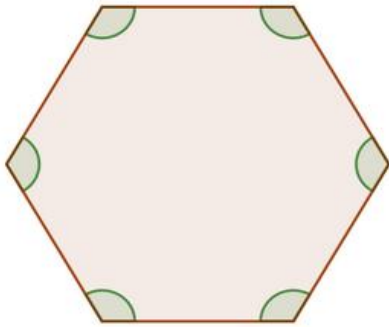


Figure 1

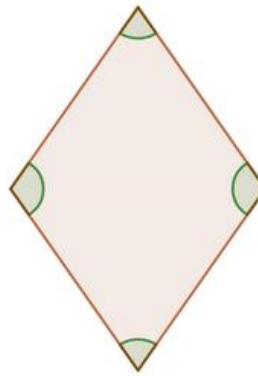


Figure 2

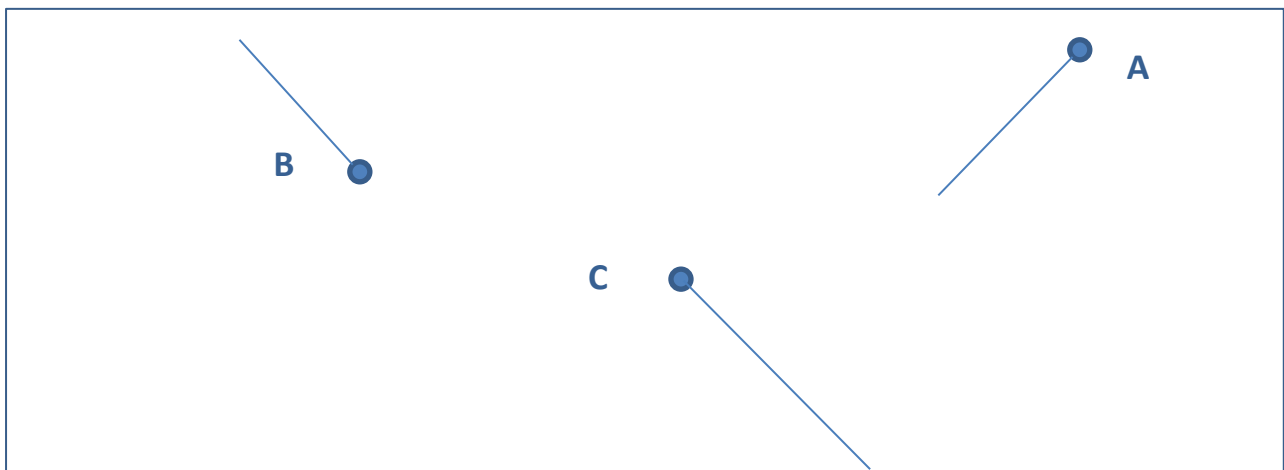


Figure 3

- | | | |
|--|------|------|
| a) La figure 1 possède au moins un angle droit : | VRAI | FAUX |
| b) La figure 2 possède au moins un angle droit : | VRAI | FAUX |
| c) La figure 3 possède au moins un angle droit : | VRAI | FAUX |
| d) La figure 1 possède au moins un angle aigu : | VRAI | FAUX |
| e) La figure 2 possède au moins un angle aigu : | VRAI | FAUX |
| f) La figure 3 possède au moins un angle aigu : | VRAI | FAUX |
| g) La figure 1 possède au moins un angle obtus : | VRAI | FAUX |
| h) La figure 2 possède au moins un angle obtus : | VRAI | FAUX |
| i) La figure 3 possède au moins un angle obtus : | VRAI | FAUX |

Les gestes de la géométrie

14. Trace dans le cadre : un angle aigu A, un angle droit B et un angle obtus C.



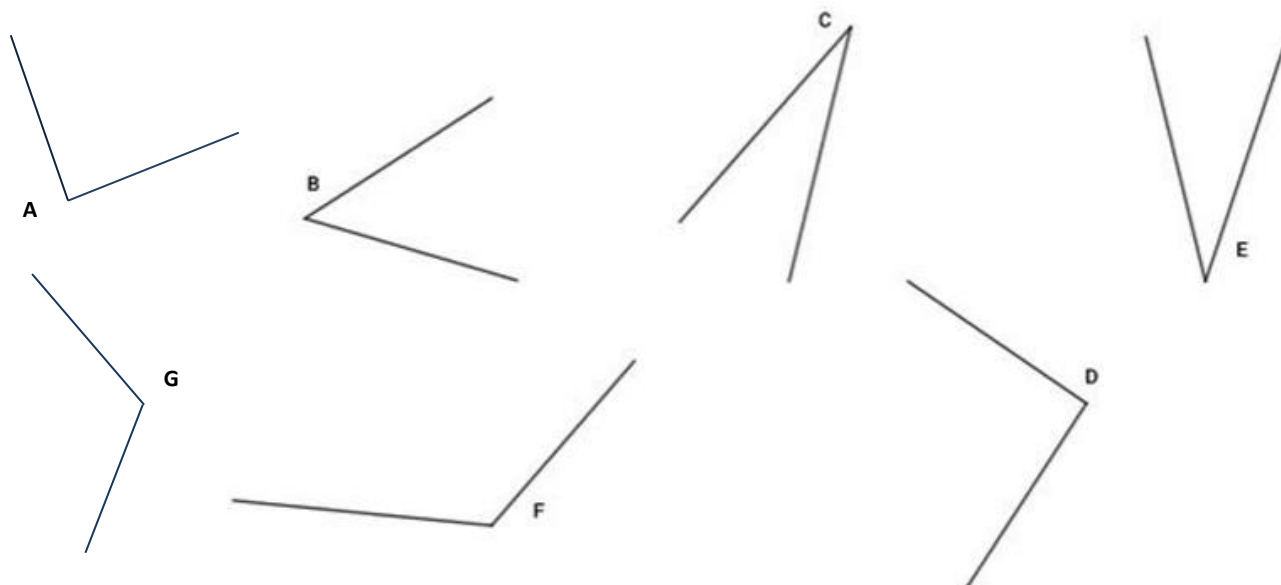
Prénom _____

15. **Trace** une figure géométrique qui a 1 angle droit, 1 angle obtus et 3 angles aigus.



CE2-G4 : reconnaître des angles dans une figure géométrique**Activités *** correction pour l'enseignant**

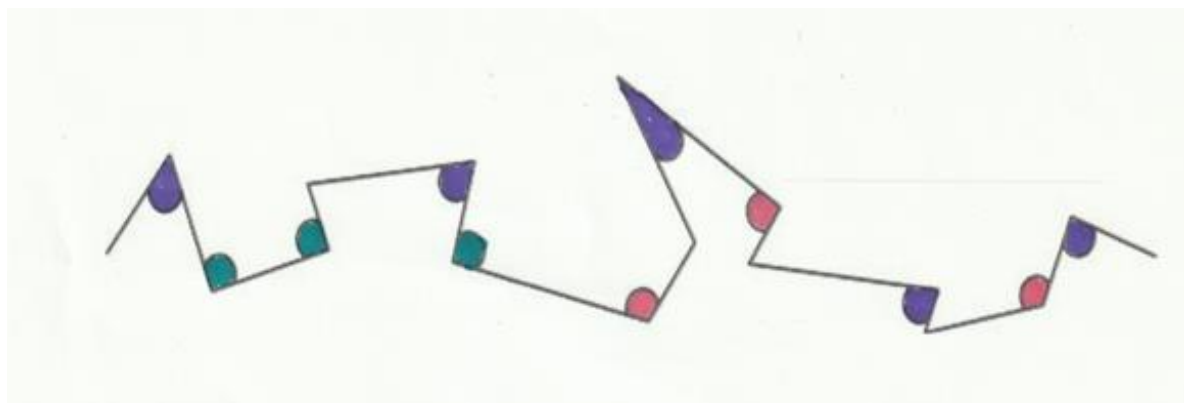
11. Prends ton équerre et **indique** dans le tableau les noms des angles droits ou aigus ou obtus.



Angles droits	A			D			
Angles aigus		B	C		E		
Angles obtus						F	G

12. **Colorie** de la bonne couleur.

Angle aigu	Angle droit	Angle obtus
Bleu	Vert	Rouge



13. Réponds aux affirmations par VRAI ou FAUX

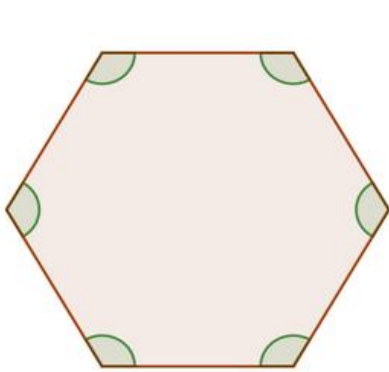


Figure 1

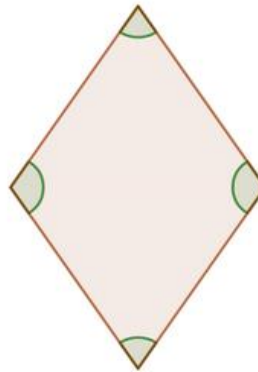


Figure 2

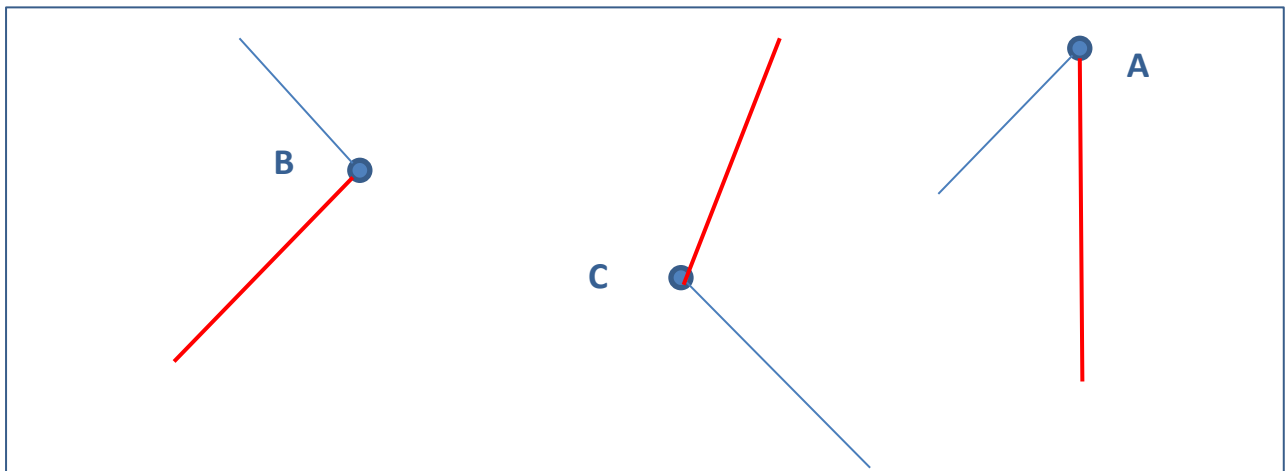


Figure 3

- | | | |
|--|-----------------|-----------------|
| a) La figure 1 possède au moins un angle droit : | VRAI | FAUX |
| b) La figure 2 possède au moins un angle droit : | VRAI | FAUX |
| c) La figure 3 possède au moins un angle droit : | VRAI | FAUX |
| d) La figure 1 possède au moins un angle aigu : | VRAI | FAUX |
| e) La figure 2 possède au moins un angle aigu : | VRAI | FAUX |
| f) La figure 3 possède au moins un angle aigu : | VRAI | FAUX |
| g) La figure 1 possède au moins un angle obtus : | VRAI | FAUX |
| h) La figure 2 possède au moins un angle obtus : | VRAI | FAUX |
| i) La figure 3 possède au moins un angle obtus : | VRAI | FAUX |

Les gestes de la géométrie

14. **Trace** dans le cadre : un angle aigu A, un angle droit B et un angle obtus C.



15. **Trace** une figure géométrique qui a 1 angle droit, 1 angle obtus et 2 angles aigus.

